

警察官 (I類) 教養試験問題

令和6年1月7日 (日) 実施

※ 指示があるまで開いてはいけません。

【注意事項】

- 1 問題は全部で50題、27ページです。時間は2時間です。
- 2 乱丁、落丁があれば、申し出てください。
- 3 解答用紙の記入方法は次のとおりです。
 - (1) 組番号、試験区分、受験番号はあらかじめ記入・マークされていますので、誤りがないか確認してください。
 - (2) 申込番号を正しく記入し、該当する番号の○をHBの鉛筆又はシャープペンシルで黒く塗りつぶしてください。

【例】 3組、試験区分男性警察官I類、受験番号123番、申込番号654番の受験者は、下記ようになります。

	0	0	3
	番号		
組 番 号	●●○		
	①①①		
	②②②		
	③③●		
	④④④		
	⑤⑤⑤		
	⑥⑥⑥		
	⑦⑦⑦		
	⑧⑧⑧		
	⑨⑨⑨		

	I類	
	試験区分	
警察官 男性	I類	●
	II類	○
	III類	○
警察官 女性	I類	○
	II類	○
	III類	○

0	0	1	2	3
受験番号				
●●○	○	○	○	○
①①●	①	①		
②②②	●	②		
③③③	③	③	●	
④④④	④	④	④	④
⑤⑤⑤	⑤	⑤	⑤	⑤
⑥⑥⑥	⑥	⑥	⑥	⑥
⑦⑦⑦	⑦	⑦	⑦	⑦
⑧⑧⑧	⑧	⑧	⑧	⑧
⑨⑨⑨	⑨	⑨	⑨	⑨

0	0	6	5	4
申込番号				
●●○	○	○	○	○
①①①	①	①	①	①
②②②	②	②	②	②
③③③	③	③	③	③
④④④	④	④	④	●
⑤⑤⑤	●	⑤		
⑥⑥●	⑥	⑥		
⑦⑦⑦	⑦	⑦	⑦	⑦
⑧⑧⑧	⑧	⑧	⑧	⑧
⑨⑨⑨	⑨	⑨	⑨	⑨

- (3) 教養試験解答欄は、各問題の解答番号1から5のうち正しいと思う解答番号の○をHBの鉛筆又はシャープペンシルで黒く塗りつぶしてください。
 - (4) 各問題とも正解は一つですから、二つ以上塗ると誤りになります。
 - (5) 一旦記入してから書き直す場合は、消しゴムできれいに消してください。
 - ※ 砂消しゴムは絶対に使わないでください。
 - (6) 解答用紙にある注意事項をよく確認してください。
- 4 問題の計算などでメモをしたい場合は、問題用紙の余白を使ってください。
 - 5 試験時間中に問題集を切り取る、計算機を使用する、携帯電話、スマートフォン、腕時計型端末、電子機器等を操作するなどの行為は、一切禁止します。
 - 6 試験終了後、この問題集は持ち帰ることができます。

～ 本試験問題の無断転載及び複製を一切禁止します。 ～

[No. 1] 我が国の国会に関する記述として、最も妥当なのはどれか。

- (1) 常会は、毎年1回、1月に召集され、予算や法律案を中心に会期を定めず審議する。
- (2) 臨時会は、内閣が必要と認めた場合でも、いずれかの議院の総議員の4分の1以上の要求がなければ召集されない。
- (3) 衆議院が解散されると、40日以内に衆議院議員総選挙が実施されるが、その総選挙の日から30日以内に召集される国会を特別会という。
- (4) 参議院の緊急集会は、衆議院の解散中、国に緊急のことが生じた際に、参議院議員の求めで開かれるが、ここでの議決は、次の国会開会の後10日以内に衆議院の同意がなければ失効する。
- (5) 衆議院の優越の一つに法律案の先議権があり、衆議院で可決した法律案を参議院が否決した場合に衆議院の出席議員の3分の2以上の多数で再可決すれば、法律案が成立する。

[No. 2] 我が国の新しい人権に関する記述として、最も妥当なのはどれか。

- (1) 環境権とは、自然環境の破壊や生活環境の悪化を防止し、よりよい環境を享受する権利であり、基本的人権の享有（憲法第11条）を法的根拠としている。
- (2) プライバシーの権利は、当初、私生活をみだりに公開されない権利として主張されたが、現在では、自分に関する情報をみずから管理する権利を含むものと考えられている。
- (3) 知る権利とは、国民が行政機関に対して積極的に情報の公開を求める権利のことをいい、政府が国民の活動を監視し民主的にコントロールするためには必要不可欠である。
- (4) アクセス権とは、自己の意見が報道されなかったと感じる者が、マス・メディアに対して意見広告や反論記事の掲載を求める権利のことをいい、最高裁判所もアクセス権を認めている。
- (5) 自己決定権とは、個人が自己の生き方を他者の介入を受けずに決定する権利であるが、自己決定権として認められている内容は医療の分野に限定される。

[No. 3] 政治思想に関する記述として、最も妥当なのはどれか。

- (1) 古代ギリシャの哲学者プラトンは、主著『政治学』で「人間はポリス的動物である」と述べた。
- (2) イギリスの裁判官エドワード・コークは、「王は何人の下にも立つことはない。しかし、神と法の下には立たなければならない」という国王の言葉を引用し、絶対主義を強調した。
- (3) アメリカの初代大統領ワシントンの「人民の人民による人民のための政治」という言葉は、民主主義の考え方を端的に表している。
- (4) イギリスの政治家ブライスが述べた「地方自治は民主主義の学校」とは、住民が地域の自治に参画することにより、主権者としての自覚を高めてきたことを意味している。
- (5) フランスの思想家ボータンは、国家の主権は絶対かつ永久・不可分であるとし、君主が主権を握り、あらゆる分野で絶大な権力を行使する法治主義を批判した。

[No. 4] 国際法における人権保障に関する記述中の空所A～Dに当てはまる語句の組合せとして、最も妥当なのはどれか。

第二次世界大戦後には人権を国際的に保障する取組が始まった。そのきっかけとなったのが、アメリカのフランクリン＝ローズベルト大統領が提唱した「4つの自由」の理念であった。この理念とは、言論と表現の自由、信仰の自由、欠乏からの自由、(A)のことである。

その後、1948年には、国連総会において(B)が、1966年には(C)が採択された。

なお、国際連合では、(D)が各国政府に対して人権状況の改善を勧告している。

	A	B	C	D
(1)	恐怖からの自由	世界人権宣言	国際人権規約	人権理事会
(2)	恐怖からの自由	国際人権規約	世界人権宣言	安全保障理事会
(3)	国家からの自由	世界人権宣言	国際人権規約	人権理事会
(4)	国家からの自由	国際人権規約	世界人権宣言	安全保障理事会
(5)	国家からの自由	世界人権宣言	国際人権規約	安全保障理事会

[No. 5] 我が国の市場と競争に関する記述として、最も妥当なのはどれか。

- (1) 企業どうしが価格や生産量について協定を結ぶカルテルを消費者保護法によって禁止しており、消費者庁がその監視に当たっている。
- (2) 巨大な設備を用いる産業では、生産量を増やすことによって生産コストが高くなるので、トラストなど合併による独占形態が出現するようになった。
- (3) 寡占・独占化が進むと、価格が下方には変化するが上方には変化しない場合が多くなり、これを「価格の上方硬直性」と呼ぶ。
- (4) 寡占市場でプライス・リーダーが一定の利潤を確保できる価格を設定し、他の企業もそれに追従するような価格を均衡価格という。
- (5) 公的機関の定めた標準規格ではなく、既成事実的に市場を支配するようになった規格のことをデファクト・スタンダードという。

[No. 6] GATT（関税及び貿易に関する一般協定）に関する記述として、最も妥当なのはどれか。

- (1) GATTは、第二次世界大戦前の平価切下げ競争を防止し、為替相場の安定のために加盟国に為替制限の撤廃を促すことを目的として発足した。
- (2) GATTでは、貿易における「自由・平等・無差別」を原則とし、このうち「無差別」は、非関税障壁の廃止や関税率の削減などにより貿易を推進することをいう。
- (3) 第7回目の多角的貿易交渉である東京ラウンドでは、農業分野にも交渉対象を広げたほか、知的財産権（知的所有権）についても新たなルールを確立した。
- (4) 1995年、GATTの後継機関として設立されたWTO（世界貿易機関）では、紛争処理の決定方法として、全加盟国の反対がない限り採択されるネガティブ・コンセンサス方式が取り入れられた。
- (5) GATTでは、一時的な緊急輸入制限であるセーフガードは認められていないが、国内市場よりも低い価格で輸出するダンピングは認められている。

[No. 7] 昨年12月、ホテルや旅館が迷惑客の宿泊を拒めることを定めた改正旅館業法（生活衛生関係営業等の事業活動の継続に資する環境の整備を図るための旅館業法等の一部を改正する法律）が施行されたが、宿泊拒否事由に関する記述として、最も妥当なのはどれか。

- (1) 宿泊拒否事由の見直しがなされたが、「宿泊しようとする者が伝染性の疾病にかかっていると明らかに認められるとき」については、要件として明確なことから、改正されなかった。
- (2) 宿泊しようとする者が、新型コロナウイルス感染症の患者であるときは、宿泊拒否事由に該当する。
- (3) 改正旅館業法には、新たに客からの従業員に対する過度な要求やクレームへの対応が盛り込まれたが、障害者の宿泊に関する要求は、求める内容如何にかかわらず宿泊拒否事由から除外される。
- (4) 宿泊しようとする者が、ホテルや旅館の従業員に過度な負担を強いて、他の宿泊者へのサービス提供を阻害するおそれがある要求を行えば、ただちに宿泊を拒否できる。
- (5) 自身の泊まる部屋の上下左右の部屋に宿泊客を入れないことを繰り返し求める行為や土下座など社会的相当性を欠く方法による謝罪を繰り返し求める行為は宿泊拒否事由となる。

[No. 8] 次の記述中の空所A～Eに当てはまる語句の組合せとして、最も妥当なのはどれか。

昨年8月、(A)の無人探査機が同国初の月面着陸に成功した。月面着陸に成功した国は(B)カ国目となったが、水資源の存在が有望視される月の(C)付近への着陸は世界初であった。日本では、昨年9月に宇宙航空研究開発機構(JAXA)が開発した月探査機「(D)」を搭載した「(E)」ロケットが日本初の月面着陸を目指し、打ち上げられた。

	A	B	C	D	E
(1)	インド	4	南極	SLIM	H2A
(2)	カナダ	5	南極	SLIM	H3
(3)	中国	4	北極	SELENE	H2A
(4)	フランス	5	北極	SELENE	H3
(5)	イスラエル	5	南極	OMOTENASHI	H2A

[No. 9] 次の記述に当てはまる語句として、最も妥当なのはどれか。

各地方自治体が独自にシステムを開発・運用、管理してきた住民情報をインターネットを通じて共通利用できるようにする国・地方自治体共通の情報システム基盤の呼称。住民基本台帳や国民年金など20分野の業務を対象に、国や地方自治体の基幹業務システムを標準化する取組が進められ、地方自治体のシステムを原則、2025年度までに移行することを目指している。

- (1) デジタルアーカイブ
- (2) ガバメントクラウド
- (3) データポータビリティ
- (4) データセンター
- (5) インフラストラクチャー

[No.10] 旧石器時代及び縄文時代に関する記述として、最も妥当なのはどれか。

- (1) 群馬県の岩宿遺跡で、更新世に堆積した関東ローム層から打製石器が発掘され、その後も各地で更新世の地層から石器が発見され、旧石器時代の文化の存在が明らかになった。
- (2) 縄文時代ではアニミズムの思想により呪術によって災いの回避や豊穡を祈っていた。こうした呪術的風習を示す遺物として、三角縁神獸鏡さんかくえんしんじゅうきようといった銅鏡や土偶などがあげられる。
- (3) 縄文時代、埴輪をめぐらした墳丘の頂上部に大きな竪穴を掘って竪穴式石室や粘土槨などの埋葬施設が設けられ、一部の有力者は勾玉や腕輪型石製品など多くの副葬品とともに葬られた。
- (4) 旧石器時代後期、ナイフ形石器や尖頭器などを棒に付けた石棒が用いられるようになり、旧石器時代末期には、小石器を木や骨の柄に埋め込んで用いる石包丁が出現した。
- (5) 環濠集落かんごうしゅうらくとは、周囲に深い濠や土塁などをめぐらした縄文時代の集落であり、複数の環濠をめぐらした佐賀県吉野ヶ里遺跡や、奈良県唐古・鍵遺跡などはその代表例である。

[No.1 1] 鎌倉時代に関する記述として、最も妥当なのはどれか。

- (1) 鎌倉幕府の支配機構は、公文所が御家人を組織・統制し、侍所が裁判事務を担当した。一般政務や財政事務は、初めは問注所が担当し後に政所が担当した。
- (2) 13世紀後半、元からたびたび強要される朝貢を執権北条泰時が拒否したため、我が国は元寇（蒙古襲来）と呼ばれる襲撃を2度にわたって受けた。
- (3) 守護の平時の職務は、治安の維持や警察権の行使である。その中で、最も重要な職務とされたのは、大犯三カ条と呼ばれる京都大番役の催促と謀反人・殺害人の逮捕であった。
- (4) 1185年、平氏滅亡後、後白河法皇は源義朝の支配権の強大化を恐れ、源頼朝に義朝の追討を命じたが、法皇は義朝の軍勢にせまられ、兵糧米を徴収する権利などを認めさせられた。
- (5) 武士の一族は宗家の首長である庶子を中心に結束し、庶子以外の者は惣領と呼ばれ、庶子に従って幕府への奉公にはげみ、非常時には団結して戦った。

[No.1 2] 三十年戦争に関する記述として、最も妥当なのはどれか。

- (1) ドイツのカトリックがハプスブルク家によるプロテスタント信仰の強制に対して反抗したことがきっかけとなって、ほぼ全ヨーロッパを巻き込む三十年戦争が始まった。
- (2) カトリック側では、スペインがハプスブルク家の皇帝を支援し、プロテスタント側はルター派のデンマークがイギリスやオランダの支援を得て、これと戦った。
- (3) プロテスタント側では、傭兵隊長ヴァレンシュタインの率いるスウェーデン軍がバルト海の覇権を目指して参戦し、ドイツに侵入した。
- (4) 戦争後半には、カトリック国であるフランスがカトリック側勢力と同盟して直接戦い始めるなど、宗教紛争としての傾向が強まった。
- (5) 1648年のアウクスブルクの和議によって、三十年戦争は終結した。これによりドイツの諸侯に主権が認められるなど、ハプスブルク家の勢力は後退し、神聖ローマ帝国は事実上崩壊した。

[No.1 3] 朝鮮王朝に関する記述として、最も妥当なのはどれか。

- (1) 倭寇を破って名声を高めた李自成は、高麗を倒して1392年に朝鮮王朝(李氏朝鮮)を建て、平壤に都をおいた。朝鮮は、陽明学を導入して科挙を整備するなど、明の制度を取り入れた。
- (2) 15世紀前半の世宗のときには、木版印刷による出版や、表意文字である訓民正音(ハングル)の制定など、特色ある文化事業が盛んに行われた。朝鮮は、明からの朝貢を受けて勘合貿易を行った。
- (3) 16世紀以降の朝鮮では、科挙制度が廃止され、両班と呼ばれる有力な一族が支配階級となり、陽明学の儀礼と学問の担い手となる一方で、政治上の実権をめぐって党派に分かれての争いを繰り返した。
- (4) 16世紀後半には、豊臣秀吉が朝鮮に侵攻したが、明の援軍や朝鮮の李舜臣が率いた水軍の抵抗を受け、秀吉の死とともに日本軍は撤退した。江戸時代になると、対馬を通じた日朝関係が復活した。
- (5) 1860年代に入ると、欧米諸国は朝鮮に開国を要求したが、高宗の王妃であった閔氏はこれを拒否した。大院君が閔氏を引退させた後、日本は江華島事件を起こして朝鮮に迫り、日朝修好条規を結んだ。

[No.1 4] 地図に関する記述として、最も妥当なのはどれか。

- (1) 世界地図の要素には、距離・面積・角度・方位などがあり、2つ以上の要素を同時に正しく表す地図は存在しない。
- (2) メルカトル図法は、地図上の任意の2点を結ぶ直線が最短距離を表すことから、海図として用いられる。
- (3) ホモロサイン(グード)図法は、メルワイデ図法とサンソン図法を組み合わせ、海洋部を断裂させた正積図法である。
- (4) 地図は一般図と主題図に大別でき、国土地理院が発行する地形図は主題図にあたる。
- (5) カルトグラムとは、地域を等面積の多数のメッシュ(網目)にくぎり、各メッシュを単位として統計数値を地図化したものである。

[No.1 5] 土壌に関する記述中の空所A～Eに当てはまる語句の組合せとして、最も妥当なのはどれか。

土壌のうち、気候や植生などの影響を強く受けたものは成帯土壌と呼ばれる。例えば、ラトソルは熱帯で見られる（ A ）であり、ポドゾルは冷帯で見られる（ B ）の強い土壌である。また、乾燥帯であるウクライナからシベリア中部にかけて分布する（ C ）は肥沃な土壌であり、このあたりでは小麦の生産がさかんである。

これに対して、気候ではなく、元となる岩石などの影響を強く受けた土壌を間帯土壌という。例えば、玄武岩が風化したレグールは、（ D ）土とも呼ばれ、（ E ）で見られる。

	A	B	C	D	E
(1)	赤色土	酸性	チェルノーゼム	綿花	デカン高原
(2)	黒土	アルカリ性	チェルノーゼム	コーヒー	ブラジル高原
(3)	赤色土	酸性	チェルノーゼム	コーヒー	ブラジル高原
(4)	黒土	酸性	プレーリー土	綿花	デカン高原
(5)	赤色土	アルカリ性	プレーリー土	綿花	アメリカ南部

[No.1 6] 人間の特質に関する記述中の空所A～Dに当てはまる語句の組合せとして、最も妥当なのはどれか。

人間については、さまざまな定義がなされている。人間は、他の動物より発達した理性を持つことから、スウェーデンの生物学者リンネは人間に「ホモ・（ A ）」という学名を与えた。人間が道具を作成し、環境に働きかけ、環境を改変していく存在である点に着目したフランスの哲学者ベルクソンは、人間を「ホモ・（ B ）」と定義した。また、オランダの歴史家ホイジンガは、自由な精神にもとづく「遊び」に人間の特質を見だし、「ホモ・（ C ）」と定義した。ほかにも、神を信じ、祈りをささげる行為に人間の特質を見いだした、「ホモ・（ D ）」という定義もある。

	A	B	C	D
(1)	レリギオースス	ファーベル	ルーデンス	サピエンス
(2)	レリギオースス	サピエンス	ファーベル	ルーデンス
(3)	サピエンス	ファーベル	レリギオースス	ルーデンス
(4)	サピエンス	ルーデンス	ファーベル	レリギオースス
(5)	サピエンス	ファーベル	ルーデンス	レリギオースス

[No.17] 次の説明に該当する作家として、最も妥当なのはどれか。

明治女流小説の第一人者である。中島歌子の歌塾「萩の舎」に入門し、和歌・古典・書道を学ぶ。その後、姉弟子の三宅花圃（田辺龍子）の小説に刺激を受け、小説家を志すようになる。

その後、当時記者であり作家でもあった半井桃水に師事して、作家の手法を学び『闇桜』を発表したが、半井との関係が醜聞と化し師事を断念。その後、「文学界」の同人と交流し才能を開花させた。

『大つごもり』『たけくらべ』『にごりえ』『十三夜』などを発表し大いに評価された。

- (1) 茨木のり子
- (2) 幸田文
- (3) 野上弥生子
- (4) 樋口一葉
- (5) 与謝野晶子

[No.18] 次の故事成語のうち、「上に立つ者の実力や権威を軽視し、その地位を奪おうとすること」を意味するものとして、最も妥当なのはどれか。

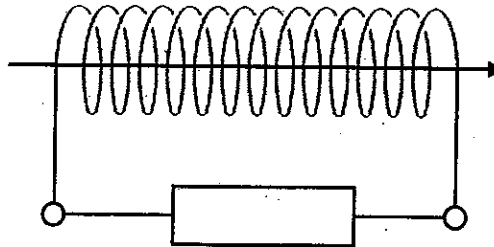
- (1) 顧みて他を言う
- (2) 鼎^{かなえ}の軽重を問う
- (3) 中原^{ちゅうげん}に鹿を逐^おう
- (4) 病膏肓^{びょうこう}に入る
- (5) 梁上の君子

[No.19] 次の外来語とその意味の組合せとして、最も妥当なのはどれか。

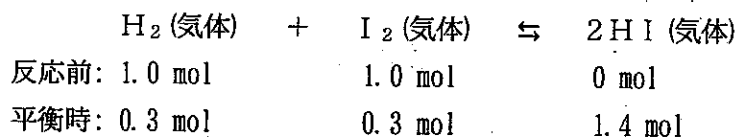
- | | | |
|-------------|---|------|
| (1) イニシアチブ | — | 主導権 |
| (2) クラスタ | — | 個人 |
| (3) ディレクタント | — | 異国趣味 |
| (4) パラドックス | — | 順説 |
| (5) リテラシー | — | 市場戦略 |

[No.2 0] 断面積 $2.0 \times 10^{-3} \text{ m}^2$ 、巻数 N 回のコイルを貫く磁束密度が、 4.0×10^{-2} 秒の間に下図の矢印の向きに一樣に 0.50 T 増加したとき、コイルに生じる誘導起電力の大きさは 2.0 V であった。このときのコイルの巻数 N として、最も妥当なのはどれか。

- (1) 40 回
- (2) 50 回
- (3) 80 回
- (4) 400 回
- (5) 800 回



[No.2 1] ある体積の密閉容器に水素 1.0 mol とヨウ素 1.0 mol を入れ、ある一定温度に保つと、ヨウ化水素が生じて次のような平衡状態となった。この反応の平衡定数 K として、最も妥当なのはどれか。



- (1) 16
- (2) 22
- (3) 31
- (4) 43
- (5) 50

[No.2 2] 電気泳動に関する記述中の空所 A~C に当てはまる語句の組合せとして、最も妥当なのはどれか。

塩基対の数が異なる DNA 断片を分離する方法として、電気泳動がある。DNA は (A) に帯電しているため、電極間に電圧をかけると、寒天ゲル中を (B) 極に向かって移動する。短い DNA 断片は、長い DNA 断片よりも (C) 移動する。このような性質を利用して、移動距離から塩基数を推定できる。

- | | A | B | C |
|-----|---|---|----|
| (1) | 正 | + | 速く |
| (2) | 正 | - | 遅く |
| (3) | 負 | + | 遅く |
| (4) | 負 | + | 速く |
| (5) | 負 | - | 速く |

[No.2 3] 惑星に関する記述として、最も妥当なのはどれか。

- (1) 木星・水星・金星・火星のグループを木星型惑星、地球・土星・天王星・海王星のグループを地球型惑星という。
- (2) 地球型惑星は、水素やヘリウムなどの気体からなる表面、液体水素・金属水素の層からなる内部、氷と岩石からなる中心部で構成されている。
- (3) 木星型惑星は、地球型惑星に比べて半径や質量は大きい、密度は小さく、多数の衛星を有する。
- (4) 金星は地球とほぼ同じ大きさだが、自転速度は速く、公転の向きと同じ向きに自転している。
- (5) 水星は、表面に溶岩や水が流れた跡と思われる地形が多くみられることから、生命が存在する可能性が高い惑星とされている。

[No.2 4] 次の英文の、文法上の用法が正しいものとして、最も妥当なのはどれか。

- (1) My father said me good night.
- (2) I try to speak politely senior citizens.
- (3) Mr. Smith explained his students the process.
- (4) She told to me that I should see the doctor.
- (5) I talked my mother into buying me a bike.

[No.2 5] 次の英文の () に当てはまるものとして、最も妥当なのはどれか。

I was in London until last month, () I left for Paris.

- (1) who
- (2) when
- (3) which
- (4) where
- (5) that

- [No.3 4] A～Lの12人は、下図のような16部屋からなる4階建てのアパートのうちのいずれか1部屋を借りて住んでおり、残りの4部屋は空き部屋である。次のア～オのことがわかっているとき、確実にいえることとして、最も妥当なのはどれか。

	401	402	403	404	
西 ←	301	302	303	304	→ 東
	201	202	203	204	
	101	102	103	104	

- ア Aの両隣の部屋にはEとGが住んでおり、Aの真下の部屋にはFが住んでいる。
 イ Kの東隣の部屋にはJが住んでおり、Kの真下の部屋にはDが住んでいる。
 ウ Iの真下の部屋にはBが住んでおり、Iの西隣の部屋にはCが住んでいる。
 エ Dの両隣の部屋にはHとLが住んでいる。
 オ Cの両隣の部屋のうち、1つのみ空き部屋である。

- (1) 301にはGが住んでいる。
 (2) 303にはCが住んでいる。
 (3) 402は空き部屋である。
 (4) 1階には空き部屋はない。
 (5) KはEよりも上の階に住んでいる。

- [No.3 5] 40人の学生に、体育、美術、音楽の中から得意な科目について尋ねたところ、体育が得意だと答えた者が18人、美術が得意だと答えた者が18人、音楽が得意だと答えた者が18人、3科目のうち2科目だけが得意だと答えた者が10人、3科目とも得意だと答えた者が5人であった。このとき、3科目とも得意でないとした者の人数として、最も妥当なのはどれか。ただし、学生の回答は、「得意だ」か「得意でない」の2つだけだったものとする。

- (1) 2人
 (2) 3人
 (3) 4人
 (4) 5人
 (5) 6人

[No.36] A～Fの6人が広い平原の異なる位置に立っている。このときの位置関係について、次のア～オのことがわかっているとき、確実にいえることとして、最も妥当なのはどれか。

- ア AとBは、Fからともに直線距離で10m離れて立っている。
- イ DとAは、Cからともに直線距離で10m離れて立っている。
- ウ BとDは、Eからともに直線距離で10m離れて立っている。
- エ Fは、Eの真北に立っている。
- オ AとCとFは一直線上に立っている。

- (1) Aは、Dの真北に立っている。
- (2) Bは、Aの真西に立っている。
- (3) Cは、Aの真東に立っている。
- (4) Dは、Bの真北に立っている。
- (5) Dは、Cの真南に立っている。

[No.37] A～Eの5チームが、各チームとそれぞれ1回ずつの総当たり方式で野球の試合を行った。勝ったチームは2点、負けたチームは0点、引き分けたチームはそれぞれのチームに1点の点数が与えられる。試合の結果について次のア～オのことがわかっているとき、確実にいえることとして、最も妥当なものはどれか。

- ア Aが勝った試合はなかった。
- イ Bは2勝1敗1分だった。
- ウ CはAと引き分け、点数の合計は3点だった。
- エ Dは全勝した。
- オ Eの点数の合計は2点だった。

- (1) AはEに負けていない。
- (2) BはEと引き分けていない。
- (3) CはEに勝っていない。
- (4) CはBに負けていない。
- (5) EはBに勝っていない。

[No.38] A～Fの6人が受けたテストの結果について、次のア～カのことがわかっているとき、確実にいえることとして、最も妥当なのはどれか。

- ア 同じ点の者はいなかった。
- イ AとBの点数差は2点であった。
- ウ AとEの点数差は2点であった。
- エ BとFの点数差は3点であった。
- オ CはEより1点低かった。
- カ Eの点は、Fよりも高く、Dよりも低かった。

- (1) AとFの点数差は4点であった。
- (2) Bの点はFより低かった。
- (3) CとDの点数差は3点であった。
- (4) DとFの点数差は9点であった。
- (5) Dの点が最も高かった。

[No.39] A～Cの3人が、正午にイベント会場の入口で待ち合わせたところ、それぞれが異なる時刻に到着した。会場の入口にある時計は正確な時刻を示している。次のア～エのことがわかっているとき、確実にいえることとして、最も妥当なのはどれか。

- ア Aが到着した時、Aの時計は12時01分を示しており、Aが到着して3分後にBが到着した。
- イ Bの時計は、会場の入口の時計と同じ時刻を示していた。
- ウ Bが到着した時、Cの時計は11時57分を示していたが、Cの時計は、会場の入口の時計より5分進んでいた。
- エ Cが到着した時、Aの時計は12時06分を示していた。

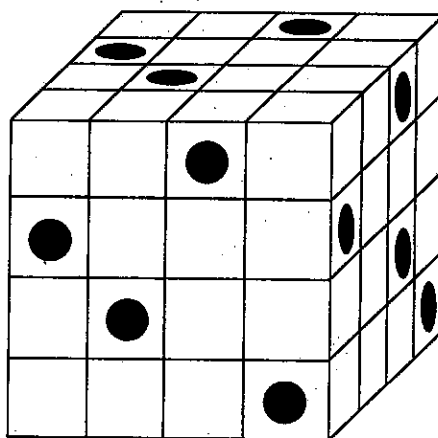
- (1) 3人全員が、約束の時間までに会場の入口に到着した。
- (2) Aは正確な時刻では11時48分に会場の入口に到着した。
- (3) Aの時計は、正確な時刻より11分進んでいた。
- (4) Bが到着した時、Aの時計は12時02分だった。
- (5) Cが到着した時、Cの時計は11時57分だった。

[No.4 0] 箱の中に 250 個以上 300 個未満のミカンが入っている。これらのミカンを袋に 7 個ずつ入れると 4 個余り、8 個ずつ入れると 5 個余る。ミカン を 9 個ずつ入れたときの余りの個数として、最も妥当なのはどれか。

- (1) 4
- (2) 5
- (3) 6
- (4) 7
- (5) 8

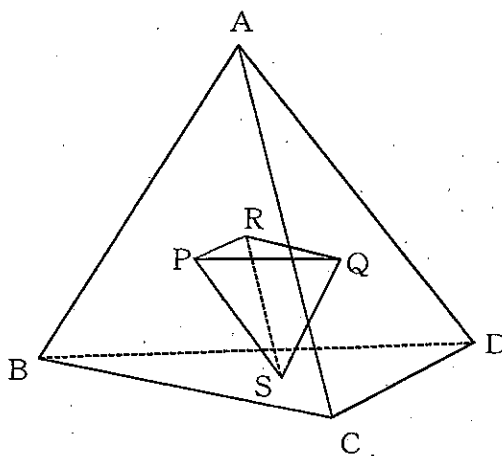
[No.4 1] 下図のように、同じ大きさの小立方体を 64 個用いて大立方体を作った。●がついている面に対して垂直に針を刺し、大立方体の反対側の面まで貫いて穴をあけると、2 本の針が貫いている小立方体の個数として、最も妥当なのはどれか。

- (1) 6 個
- (2) 7 個
- (3) 8 個
- (4) 9 個
- (5) 10 個



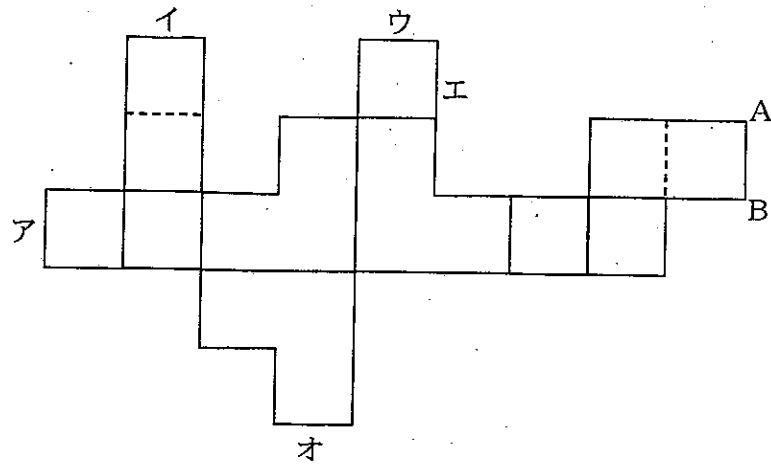
[No.4 2] 正四面体 ABCD の 4 つの面の重心を線分で結ぶと、正四面体 PQRS ができる。このとき、正四面体 PQRS と正四面体 ABCD の体積の比として、最も妥当なのはどれか。

- (1) 1 : 8
- (2) 1 : 27
- (3) 8 : 27
- (4) 9 : 16
- (5) 27 : 64

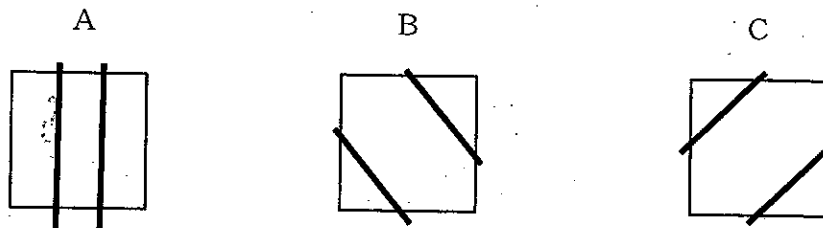
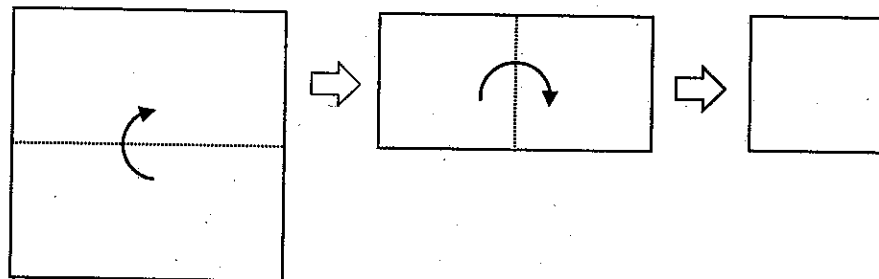


[No.4 3] 下図のような展開図から立体を作るとき、辺ア～オのうち、辺ABと重なる辺として、最も妥当なのはどれか。ただし、図中の実線は山折り、点線は谷折りにすることとする。

- (1) ア
- (2) イ
- (3) ウ
- (4) エ
- (5) オ



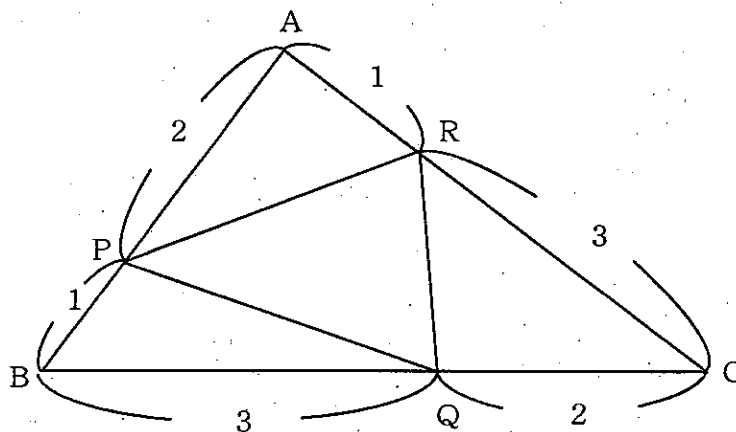
[No.4 4] 3枚の正方形の紙を、それぞれ下図のように2回折り曲げる。折り曲げてできた正方形の紙の向きを変えずにA～Cの3通りの方法で切断し、再度紙を広げたときにできる紙片の枚数についていえることとして、最も妥当なのはどれか。なお、A～Cの太線は切断する位置を表している。



- (1) Aが最も多い。
- (2) Bが最も少ない。
- (3) Cが最も多い。
- (4) AとBは同じになる。
- (5) AとCは同じになる。

[No.4 5] 下図のような $\triangle ABC$ において、辺 AB を $2 : 1$ の比に内分する点を P 、辺 BC を $3 : 2$ の比に内分する点を Q 、辺 CA を $3 : 1$ の比に内分する点を R とする。 $AB = 3 \text{ cm}$ 、 $BC = 5 \text{ cm}$ 、 $CA = 4 \text{ cm}$ であるとき、 $\triangle PQR$ の面積として、最も妥当なのはどれか。

- (1) $\frac{6}{5} \text{ cm}^2$
- (2) $\frac{7}{5} \text{ cm}^2$
- (3) $\frac{8}{5} \text{ cm}^2$
- (4) $\frac{9}{5} \text{ cm}^2$
- (5) 2 cm^2



[No.4 6] 2つの整数 A 、 B ($A > B$)の最大公約数は 13 である。 A 、 B の和が 3952 、差が 2626 であるとき、 $A \div B$ の値として、最も妥当なのはどれか。

- (1) $\frac{187}{39}$
- (2) $\frac{143}{51}$
- (3) $\frac{253}{51}$
- (4) $\frac{187}{69}$
- (5) $\frac{221}{69}$

[No.47] 数字1、2、3、4を書いた箱がそれぞれ1箱ずつ、数字4、5、6、7を書いた玉がそれぞれ1個ずつある。4つの箱に、玉をそれぞれ1個ずつ入れるとき、4つの箱すべてにおいて、玉の数字が箱の数字より大きくなる確率として、最も妥当なのはどれか。

(1) $\frac{1}{4}$

(2) $\frac{5}{12}$

(3) $\frac{5}{8}$

(4) $\frac{3}{4}$

(5) $\frac{7}{8}$

[No.48] 次に示す数列の和として、最も妥当なのはどれか。

$$\frac{1}{1 \times 3} + \frac{1}{2 \times 4} + \frac{1}{3 \times 5} + \dots + \frac{1}{18 \times 20}$$

(1) $\frac{331}{760}$

(2) $\frac{431}{760}$

(3) $\frac{531}{760}$

(4) $\frac{631}{760}$

(5) $\frac{731}{760}$

[No.49] 次の表は我が国の媒体別広告費の推移を示したものである。この表からいえることとして、最も妥当なのはどれか。

媒体別広告費

(単位：億円)

年次	総広告費 1)	マスコミ四媒体					プロモーション メディア 3)	インター ネット
		2)	新聞	雑誌	ラジオ	テレビ メディア		
2010年	58,427	27,749	6,396	2,733	1,299	17,321	22,147	7,747
2015年	61,710	28,699	5,679	2,443	1,254	19,323	21,417	11,594
2019年	69,381	26,094	4,547	1,675	1,260	18,612	22,239	21,048
2020年	61,594	22,536	3,688	1,223	1,066	16,559	16,768	22,290
2021年	67,998	24,538	3,815	1,224	1,106	18,393	16,408	27,052

1) 2019年からは、「物販系ECプラットフォーム広告費」と「イベント領域」を追加し、広告市場の推定を行っている。

2) 2010年は衛星メディア関連を除く。


3) プロモーションメディアとは、屋外、交通、折込、ダイレクト・メール、フリーペーパー・フリーマガジン・電話帳、店頭販促物、イベント・展示・映像などである。

- (1) 2020年の総広告費は2019年より20%以上減少したが、2021年の総広告費は2020年より20%以上増加した。
- (2) 2010年と2021年とを比較した場合、新聞、雑誌、ラジオ、テレビメディアの中で減少率及び減少額が最も大きかったのは、いずれも新聞である。
- (3) インターネットの広告費は、2010年にはマスコミ四媒体の広告費の30%未満であったが、2021年にはマスコミ四媒体の広告費の110%以上になっている。
- (4) 2019年のプロモーションメディアの広告費は、総広告費の30%以上であったが、2021年には約6千億円減少し、2021年の総広告費の20%未満になっている。
- (5) 新聞、雑誌、ラジオ、テレビメディアにおける広告費が最も高い年次と最も低い年次とを比較したとき、増減率が最も小さい媒体は、ラジオである。

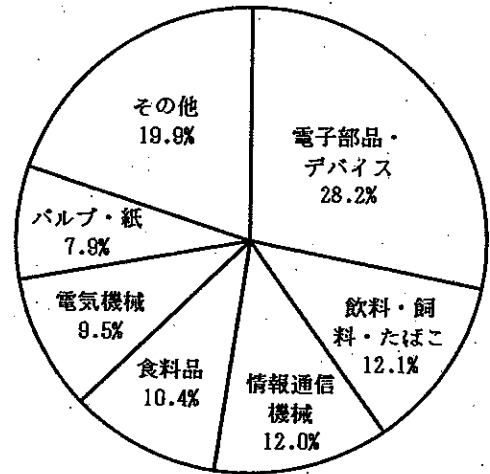
[No.50] 次のグラフは我が国のある県における工業製品出荷額とその割合を表したものである。
このグラフからいえるア～エの記述の正誤の組合せとして、最も妥当なのはどれか。

工業製品出荷額とその割合


平成元年（1989年）9850億円



平成16年（2004年）1兆1127億円



令和元年（2019年）7816億円



- ア 「電気機械」の製品出荷額は、調査年ごとに減少している。
- イ 「パルプ・紙」の製品出荷額は、調査年ごとに増加している。
- ウ 「食料品」の製品出荷額は、調査年ごとに増加している。
- エ 「電子部品・デバイス」の製品出荷額は、令和元年には平成16年の半分以下に減少している。

- | | | | | |
|-----|---|---|---|---|
| | ア | イ | ウ | エ |
| (1) | 正 | 正 | 正 | 誤 |
| (2) | 正 | 正 | 誤 | 正 |
| (3) | 正 | 誤 | 正 | 誤 |
| (4) | 正 | 誤 | 正 | 正 |
| (5) | 誤 | 正 | 誤 | 正 |

【出典一覧】

- [No. 2 6] 西海コエン「地球の歴史」
- [No. 2 7] レオナルド・タッド・ジェイ「My Nippon」
- [No. 2 8] 池田清彦「進化論の最前線」
- [No. 2 9] 山田昌治「麵の科学」
- [No. 3 0] 大嶋信頼「「やる気が出ない」が一瞬で消える方法」
- [No. 3 1] 本田真美「医師のつくった「頭のよさ」テスト」
- [No. 3 2] 黒崎政男「哲学者クロサキの哲学超入門」
- [No. 3 3] 伊藤誠「入門資本主義経済」

令和5年度 第3回警察官(I類)採用試験

第1次試験 教養試験

試験実施日

令和6年1月7日(日)

試験区分

男性警察官(I類)

女性警察官(I類)

正答の掲載期間

1月10日(水)から1月16日(火)まで

※この正答は、警視庁情報公開センター及び都庁都民情報ルームでも閲覧することができます。

I類 教養試験 正答 五肢択一式・50題解答・2時間

1 は問題番号、(1) は正答番号を表す。

1	(3)	2	(2)	3	(4)	4	(1)	5	(5)	6	(4)	7	(5)	8	(1)	9	(2)	10	(1)
11	(3)	12	(2)	13	(4)	14	(3)	15	(1)	16	(5)	17	(4)	18	(2)	19	(1)	20	(3)
21	(2)	22	(4)	23	(3)	24	(5)	25	(2)	26	(4)	27	(1)	28	(2)	29	(3)	30	(3)
31	(5)	32	(1)	33	(5)	34	(3)	35	(5)	36	(1)	37	(5)	38	(5)	39	(1)	40	(4)
41	(5)	42	(2)	43	(4)	44	(5)	45	(5)	46	(3)	47	(4)	48	(3)	49	(3)	50	(2)

警察官（I類）論文試験

令和6年1月7日（日）実施

【注意事項】

- 1 字数は1,000字程度、時間は1時間20分です。
- 2 答案用紙の所定欄に、該当する申込番号を記入しマークしてください。
右上部の※欄、及びマーク欄には何も記入しないでください。
- 3 課題欄には、必ず下記の課題を記入してください。
- 4 答案用紙は横書きとし、枠外及びその他余白には何も記入しないでください。
- 5 メモをしたい場合には、この用紙の余白及び裏面を使ってください。
- 6 この用紙は、持ち帰ることができます。

～ 本試験課題の無断転載及び複製を一切禁止します。 ～

【課題】

あなたがこれまでに熱心に取り組んだ経験に触れ、それを警察官としてどのように活かしていきたいか述べなさい。

警察官（I類）国語試験問題

令和6年1月7日（日）実施

※ 指示があるまで開いてはいけません。

【注意事項】

- 1 問題は全部で**50題、10ページ**です。時間は**20分**です。
- 2 乱丁、落丁があれば、申し出てください。
- 3 解答用紙の記入方法は次のとおりです。
 - (1) 組番号、試験区分、受験番号はあらかじめ記入・マークされていますので、誤りがないか確認してください。
 - (2) 申込番号を正しく記入し、該当する番号の○をHBの鉛筆又はシャープペンシルで黒く塗りつぶしてください。

【例】 3組、試験区分男性警察官I類、受験番号123番、申込番号654番の受験者は、下記のようになります。

	0	0	3
	番号		
組 番 号	●	●	①
	①	①	①
	②	②	②
	③	③	●
	④	④	④
	⑤	⑤	⑤
	⑥	⑥	⑥
	⑦	⑦	⑦
	⑧	⑧	⑧
	⑨	⑨	⑨

	I類	
	試験区分	
警 察 官	男 性	I類 ●
		II類 ○
		III類 ○
警 察 官	女 性	I類 ○
		II類 ○
		III類 ○

	0	0	1	2	3
	受験番号				
組 番 号	●	●	①	①	①
	①	①	●	①	①
	②	②	②	●	②
	③	③	③	③	●
	④	④	④	④	④
	⑤	⑤	⑤	⑤	⑤
	⑥	⑥	⑥	⑥	⑥
	⑦	⑦	⑦	⑦	⑦
	⑧	⑧	⑧	⑧	⑧
	⑨	⑨	⑨	⑨	⑨

	0	0	6	5	4
	申込番号				
組 番 号	●	●	①	①	①
	①	①	①	①	①
	②	②	②	②	②
	③	③	③	③	③
	④	④	④	④	●
	⑤	⑤	⑤	●	⑤
	⑥	⑥	●	⑥	⑥
	⑦	⑦	⑦	⑦	⑦
	⑧	⑧	⑧	⑧	⑧
	⑨	⑨	⑨	⑨	⑨

- (3) 国語試験解答欄は、各問題の解答番号1から5のうち正しいと思う解答番号の○をHBの鉛筆又はシャープペンシルで黒く塗りつぶしてください。
 - (4) 各問題とも正解は一つですから、二つ以上塗ると誤りになります。
 - (5) 一旦記入してから書き直す場合は、消しゴムできれいに消してください。

※ 砂消しゴムは絶対に使わないでください。
 - (6) 解答用紙にある注意事項をよく確認してください。
- 4 メモをしたい場合は、問題用紙の余白を使ってください。
 - 5 試験時間中に問題集を切り取る、携帯電話、スマートフォン、腕時計型端末、電子機器等を操作するなどの行為は、一切禁止します。
 - 6 試験終了後、この問題集は持ち帰ることができます。

～ 本試験問題の無断転載及び複製を一切禁止します。 ～

A 次の [No. 1] ~ [No. 25] について、() 内の漢字の読みが妥当な文を (1) ~ (5) の中からそれぞれ1つずつ選び、記号で答えなさい。(25問)

[No. 1]

- | | |
|------------------------|-------|
| (1) 反射的に(瞳孔)が開いた。 | どうし |
| (2) (大尉)が部隊を率いる。 | たいし |
| (3) (弊害)が生じる。 | へいがい |
| (4) 彼の詩は美しい(暗喩)で満ちている。 | あんちよく |
| (5) (愚痴)をこぼす。 | ぐし |

[No. 2]

- | | |
|--------------------------|-------|
| (1) 役所に(婚姻)届を出す。 | こんいん |
| (2) 一流(銘柄)の株が値下がりする。 | みょうがら |
| (3) (煎茶)を淹れる。 | いりちゃ |
| (4) この島の周りには(岩礁)が点在している。 | がんぺき |
| (5) 初志を(貫徹)する。 | かんつい |

[No. 3]

- | | |
|-----------------------|------|
| (1) 試合に負けて自信を(喪失)した。 | もしつ |
| (2) (湧水)を汲む。 | ゆうせん |
| (3) 貧しい人々に恵みを(施)す。 | ほどこ |
| (4) (花婿)のスピーチは感動的だった。 | はなよめ |
| (5) 心から(冥加)を願う。 | めいが |

[No. 4]

- | | |
|----------------------|-------|
| (1) この地域は(肥沃)な土壌である。 | ひよう |
| (2) 謹んで(弔意)を表す。 | ちょうい |
| (3) 漁船が(沈没)する。 | かんぼつ |
| (4) 銃で敵を(威嚇)する。 | いしゃく |
| (5) 戸籍(謄本)を取得する。 | しょうほん |

[No. 5]

- | | |
|----------------------|-------|
| (1) 窓から海を(眺)める。 | なが |
| (2) けがをした手から血が(滴)った。 | ほとばし |
| (3) 立派な(容貌)をしている。 | ようしゅう |
| (4) 彼は(玄人)はだしの技術を持つ。 | げんと |
| (5) 綿を(紡)いで糸にする。 | つ |

[No. 6]

- | | |
|-----------------------|-------|
| (1) (苦吟)の末の自信作を発表する。 | くこん |
| (2) 一言のもとに(喝破)された。 | ろんぱ |
| (3) (高雅)な作風である。 | こうが |
| (4) 法律にならい公民権を(剥奪)する。 | りだつ |
| (5) 寒い朝に(霜柱)がたつ。 | そうばしら |

[No. 7]

- | | |
|-------------------------|-------|
| (1) 新(閣僚)の氏名を発表する。 | かんりょう |
| (2) (累積)赤字を解消する。 | しせき |
| (3) この成功は平素の訓練に(因)る。 | かか |
| (4) 日本の伝統的な(錦絵)が飾られている。 | きんが |
| (5) 実態は(捕捉)しがたい。 | ほそく |

[No. 8]

- | | |
|--------------------------|-------|
| (1) 不幸な(境涯)を語る。 | けいがい |
| (2) おおいに(発憤)して勉強に打ち込む。 | はつぷん |
| (3) (小唄)の師匠の門をたたく。 | しょうがい |
| (4) まれに見る(俊才)として尊敬されている。 | しゅうさい |
| (5) 不審な男に(拉致)される。 | りっち |

[No. 9]

- | | |
|-----------------------|-----|
| (1) 街中を(闊歩)する。 | かつぽ |
| (2) (葛)は日本の伝統的な食材である。 | わらび |
| (3) 森で(薪)拾いをする。 | まきぎ |
| (4) (悔恨)の思いにかられる。 | いこん |
| (5) 土台から(桁)まで板で覆う。 | こう |

[No. 10]

- | | |
|--------------------|------|
| (1) (誰彼)の別なしに助け合う。 | だひ |
| (2) あやしげな(呪文)をかける。 | じゅぶん |
| (3) 後日の再会を(誓)いあう。 | ねが |
| (4) 交通が(麻痺)する。 | まひ |
| (5) 拝殿で(神楽)を舞う。 | しんら |

[No.1 1]

- | | |
|----------------------|------|
| (1) さまざまな(憶測)を呼んでいる。 | いそく |
| (2) 清水焼の(窯元)を訪ねる。 | ようげん |
| (3) 長男が(家督)を継いだ。 | かしゆく |
| (4) 古くから(言霊)信仰は存在する。 | ごんれい |
| (5) (飢餓)に苦しむ国に支援する。 | きが |

[No.1 2]

- | | |
|----------------------|-------|
| (1) 自我の(迷妄)を断ち切る。 | まいもう |
| (2) (堂奥)にはいる。 | どうおく |
| (3) 気になる部分に(付箋)をつける。 | ふせん |
| (4) 彼の作文は(秀逸)だ。 | しゅうめん |
| (5) 練習不足により(惨敗)を喫する。 | ざんがい |

[No.1 3]

- | | |
|-------------------------|------|
| (1) (赦免)を請う。 | せきめん |
| (2) (抑鬱)状態になる。 | うつくつ |
| (3) 世界平和という(崇高)な理想を掲げる。 | すいこう |
| (4) (軽蔑)すべき行為を禁じる。 | けいぶ |
| (5) 都市の人口が(遁増)している。 | ていぞう |

[No.1 4]

- | | |
|-------------------------|-------|
| (1) タイヤの(摩耗)が激しい。 | まっしょう |
| (2) この人を人生の(伴侶)と決める。 | はんろ |
| (3) (象牙)の取引は厳しく制限されている。 | しょうが |
| (4) 前線基地の(撤退)を命じる。 | てったい |
| (5) (主賓)を囲んで懇談する。 | しゅさい |

[No.1 5]

- | | |
|-------------------------|-------|
| (1) 環境汚染は人類を(脅)かす。 | おどろ |
| (2) (尚武)の気風がある。 | しょうぶ |
| (3) いかなる権威にも(盲従)しない。 | もくじゅう |
| (4) (懸崖)作りの菊が美しい。 | けんがん |
| (5) 対戦相手は無名だが、決して(侮)るな。 | なじ |

[No.16]

- | | |
|---------------------|-------|
| (1) (頑固)な性格である。 | がんで |
| (2) 庭の(灯笼)の手入れをする。 | とうりゆう |
| (3) 毎日ピアノの(稽古)をする。 | けいこ |
| (4) (不肖)私とその役を務めます。 | ぶしょう |
| (5) 午後は落雷の(虞)がある。 | とりこ |

[No.17]

- | | |
|-------------------------|-------|
| (1) (精緻)をきわめる調査が行われた。 | せいちょう |
| (2) 犬はすぐれた(嗅覚)をもつ。 | ちょうかく |
| (3) カニは硬い(甲殻)で外敵から身を守る。 | こうら |
| (4) (怨嗟)の声をあげる。 | おんさ |
| (5) 靴を(磨)いて仕事に行く。 | みが |

[No.18]

- | | |
|-------------------------|-------|
| (1) (軋轢)が生じる。 | あつれき |
| (2) サイレンが(一斉)に鳴る。 | いっさい |
| (3) 彼女の証言のおかげで(嫌疑)が晴れた。 | ようぎ |
| (4) 負債を(償還)する。 | しょうげん |
| (5) (荒漠)たる原野にたたずむ。 | らんぱく |

[No.19]

- | | |
|---------------------|------|
| (1) 彼の意見には(首肯)できない。 | しゅはい |
| (2) (爽快)な秋の一日を楽しむ。 | つうかい |
| (3) (薰風)が心地よく吹く。 | くんぷう |
| (4) 論文の(抄録)を提出する。 | さろく |
| (5) それは誤解も(甚)だしい。 | おびた |

[No.20]

- | | |
|----------------------------|-------|
| (1) 討論は野次の(応酬)になった。 | おうしゅう |
| (2) (鍵盤)楽器を演奏する。 | きんぱん |
| (3) 腸(捻転)の診断をください。 | ねんでん |
| (4) 古いコインは(緑青)で覆われていた。 | ろくせい |
| (5) (但)し、急な変更が生じた場合には連絡する。 | しか |

[No.2 1]

- | | |
|-------------------------|------|
| (1) 保険(約款)にしたがって手続きを行う。 | やくてい |
| (2) 貧血で(昏倒)する。 | そつとう |
| (3) 報告は(簡潔)に述べる。 | たんてき |
| (4) (特殊)技能を身につける。 | とくしゅ |
| (5) 彼は女王陛下に(拝謁)を許された。 | はいかつ |

[No.2 2]

- | | |
|-------------------------|-------|
| (1) 樹海が(山麓)に広がっている。 | さんが |
| (2) (涼)しい風が吹く。 | すず |
| (3) 事件の経過を(詳述)する。 | ようじゅつ |
| (4) 業界に(通曉)している。 | つうてい |
| (5) 彼女は彼の成功に(妬心)を抱いている。 | じゃしん |

[No.2 3]

- | | |
|---------------------|-------|
| (1) 赤い(鼻緒)がぷつりと切れた。 | びしょ |
| (2) 大役を(仰)せ付かった。 | あわ |
| (3) 元気(旺盛)に走り回る。 | おうじょう |
| (4) グリップを(把持)する。 | ほじ |
| (5) 手を(綺麗)にあらう。 | きれい |

[No.2 4]

- | | |
|------------------------|-------|
| (1) (砕氷)船が港に到着した。 | さくひょう |
| (2) 兄は(疾病)でよく学校を休んでいた。 | しつびょう |
| (3) 態度を(硬化)させる。 | なんか |
| (4) この運動は(瘦身)効果が高い。 | そうしん |
| (5) 両者の力の差は一目(瞭然)だ。 | りょうねん |

[No.2 5]

- | | |
|----------------------|-------|
| (1) 骨肉の争いは(醜)い。 | ひど |
| (2) (晩酌)におつまみが欠かせない。 | ばんしょう |
| (3) 赤ちゃんに(産湯)をつかう。 | さんとう |
| (4) 簡単に(諦)めてはいけない。 | し |
| (5) (湯)いたのどを水でうるおす。 | かわ |

B 次の [No.26] ~ [No.50] について、() 内の語句に相当する漢字を含む文を次の (1) ~ (5) の中からそれぞれ1つずつ選び、記号で答えなさい。(25問)

[No.26] やり口が(インケン)だ。

- (1) 海辺の町で(インキョ)したい。
- (2) (インシュウ)にとらわれず新たな取組を始める。
- (3) 夕日が山の(インエイ)を作り出している。
- (4) (インガ)紙をつかう。
- (5) 彼女の詩は美しい(インリツ)で読者の心をとらえた。

[No.27] 飛行機は(カンセイ)塔の指示で着陸する。

- (1) 雨で選手たちは(キセイ)をそがれた。
- (2) (センセイ)して逃げ切り、圧勝した。
- (3) 未払いの代金を(セイキュウ)する。
- (4) 昔からの友人たちは、(キユウセイ)で私を呼ぶ。
- (5) (イセイ)の中心となる人物だ。

[No.28] 台風(イッカ)、雲一つない晴天。

- (1) (カコク)な労働環境で働いた。
- (2) きれいな(カビン)を飾る。
- (3) 大企業の(ヨッカ)に入る。
- (4) 食品(テンカ)物の検査は重要だ。
- (5) 労働の(タイカ)として、金銭を支払った。

[No.29] (センレン)された身のこなしで人々から注目される。

- (1) 何事も議論より(ジッセン)が大切だ。
- (2) 知識の(センパク)を恥じる。
- (3) 衣類を(センタク)する。
- (4) (センギョウ)農家になる。
- (5) 映像が(センメイ)だ。

[No.30] 彼の決定は(ソウケイ)だった。

- (1) 清掃に(ジュウソウ)を使う。
- (2) (ソウネン)に差し掛かり、新しいことに挑戦した。
- (3) ゆったりとした(ヨクソウ)で手足を伸ばす。
- (4) 年齢には(ソウジュク)な成果を上げている。
- (5) 問題を解決するために(ホンソウ)する。

- [No.3 1] (カンセイ) な住宅街が続く。
- (1) 彼は首位から (カンラク) した。
 - (2) 店内は (カンサン) としている。
 - (3) リビングには、(カンヨウ) 植物を飾っている。
 - (4) (カンピ) なメロディーに聞き入る。
 - (5) 指導者によって (カンゲン) に差がある。
- [No.3 2] その証言には重大な (ギモン) がある。
- (1) 自分の (リュウギ) でやる。
 - (2) 専門家からみれば、(ジギ) に類する行為だ。
 - (3) (シンギ) にもとる行為をしてはならない。
 - (4) 従来の方針に (ギネン) を抱く。
 - (5) (ギジン) 化された動物たちが登場する。
- [No.3 3] 美術品の価値を (カンテイ) する。
- (1) 宿屋の (テイシュ) が対応する。
 - (2) 教師に花束の (ゾウテイ) を行った。
 - (3) 証人として裁判所に (シュツテイ) する。
 - (4) 事件を解決するために私立 (タンテイ) を雇った。
 - (5) 成績を (ヒョウテイ) する。
- [No.3 4] 貧しい人々の (キュウジョウ) を救う。
- (1) 工夫と努力でどうにか (キュウチ) を脱した。
 - (2) (ユウキュウ) 休暇をとって温泉に行った。
 - (3) 悲報を聞いて (ゴウキュウ) した。
 - (4) (シキュウ) の手紙をだす。
 - (5) (キュウメイ) ボートに乗る。
- [No.3 5] 選挙日には (トウヒョウ) 所に行列を作る。
- (1) (スイトウ) を学校に持っていく。
 - (2) 購入した土地の (トウキ) を済ませる。
 - (3) ゴミを (トウキ) する。
 - (4) (トウアン) 用紙を返す。
 - (5) 小児 (ビョウトウ) には、たくさんの子供が入院している。

- [No.36] 3年間(カイキン)で表彰された。
- (1) (キンシュク) 予算のため、多くの事業が削減された。
 - (2) (サイキン) は微生物の一種である。
 - (3) 村の(キンキ)を犯す。
 - (4) (キンコツ) たくましい青年だ。
 - (5) 正規の(キンム)時間は週に40時間だ。

- [No.37] 議長の(エッケン)行為だ。
- (1) 世界中で(ハケン)争いが繰り広げられている。
 - (2) 男女(ケンヨウ)のパジャマを着る。
 - (3) 御(ケンショウ)のことと存じます。
 - (4) 日本国(ケンポウ)は1947年に制定された。
 - (5) 空港で入国者の(ケンエキ)を行う。

- [No.38] 容疑者が(モクヒ)権を行使する。
- (1) 有名な俳人の(クヒ)が建てられている。
 - (2) イギリス(オウヒ)が皇室行事に出席する。
 - (3) 新しい(ヒシヨ)を採用する。
 - (4) 彼はイベントへの参加を(キヨヒ)した。
 - (5) (ヒキン)な例を用いて説明する。

- [No.39] 彼は悪の道から(コウセイ)した。
- (1) (ソッコウ)が詰まると、排水の効率が悪くなる。
 - (2) 時代(コウショウ)を行い、背景を正確に再現した。
 - (3) (シュコウ)をこらした仮装が多い。
 - (4) 契約(コウジン)の手続きを行う。
 - (5) (コウテツ)のような強い意志を持つ。

- [No.40] 彼には(フジュン)な動機があるようだ。
- (1) (フヨ)された文才の持ち主だ。
 - (2) (ボウフ)剤を入れる。
 - (3) ネット販売が(フキュウ)する。
 - (4) 今日の商談は(フチョウ)に終わった。
 - (5) 演奏中に(フメン)を見て指揮をする。

- [No.4 1] 会社に当局の(ササツ)が入る。
- (1) 能力にたいした(サイ)はないように思えた。
 - (2) 彼女の計画はまるで(サジョウ)の楼閣だ。
 - (3) 江戸幕府は(サコク)をした。
 - (4) (サギ)にひっかかる。
 - (5) 作品を(シンサ)する。
- [No.4 2] 彼は予想外の出来事にも(ヘイゼン)と対処する。
- (1) 複数の会社を一つに(ヘイゴウ)する。
 - (2) 天下(タイヘイ)を願う。
 - (3) 海外旅行の際、空港で(シヘイ)を両替する。
 - (4) 軍隊の兵士たちは(ヘイレツ)行進をする訓練を受ける。
 - (5) 親の小言にはいつも(ヘイコウ)している。
- [No.4 3] 事件の証拠品を(オウシュウ)する。
- (1) この花は(ムシュウ)で、香りが無い。
 - (2) 事態を(シュウシュウ)して秩序を回復する。
 - (3) 後ろ姿に(アイシュウ)が漂う。
 - (4) メンバーを(ボシュウ)する。
 - (5) (シュウモク)の一致するところだ。
- [No.4 4] 大企業に(ジュウゾク)する下請け企業だ。
- (1) 苦難に耐え、(ニンジュウ)の生活を続ける。
 - (2) 高速道路が(ジュウタイ)している。
 - (3) 入場の際は二列(ジュウタイ)で行進する。
 - (4) ライオンは(ヒャクジュウ)の王といわれる。
 - (5) 書道の授業で(ボクジュウ)を使った。
- [No.4 5] (ユウチョウ)なことは言っていない。
- (1) (ヨユウ)のある態度に感服した。
 - (2) 執行(ユウヨ)の判決が下される。
 - (3) 人々に(エイユウ)としてあがめられている。
 - (4) (ユウエン)の昔の記憶をたどる。
 - (5) 氷が(ユウカイ)する。

- [No.46] 企業は(リジュン)を追求する。
- (1) 友の顔が(ノウリ)に浮かんだ。
 - (2) (セキリ)に感染する。
 - (3) 契約を忠実に(リコウ)する。
 - (4) 彼女は相手を(リクツ)でやりこめた。
 - (5) 犯人は(エイリ)な刃物を持っている。
- [No.47] (コウショウ)文学が代々語りつがれてきた。
- (1) (ショウガイ)保険に加入している。
 - (2) 責任者の(ショウニン)を得て契約を進める。
 - (3) 公式には『女王陛下』と(コショウ)される。
 - (4) 外交上の(ショウヘキ)が解消された。
 - (5) 相手との(コウショウ)がまとまる。
- [No.48] 人の上に立つ(キリョウ)をもっている。
- (1) 相手の心中を(スイリョウ)する。
 - (2) この石けんは天然の(コウリョウ)を使用している。
 - (3) 常に(リョウシキ)ある行動を心掛ける。
 - (4) (リョウド)を守るために境界線を監視する。
 - (5) 会社の(ドウリョウ)に相談する。
- [No.49] 意見を(グシン)する。
- (1) (シンシ)服店でスーツを注文した。
 - (2) 敵の(シンニュウ)を防ぐ。
 - (3) 会社の方針が末端まで(シントウ)する。
 - (4) 教師が生徒の(ナイシン)書を書く。
 - (5) 夢には心の(シンソウ)の欲望や恐れが表れる。
- [No.50] 環境問題に(レイタン)だ。
- (1) (シャレイ)金を渡す。
 - (2) (ジュレイ)200年と推測される。
 - (3) しばらく(レイキヤク)期間を置く。
 - (4) 病院では、新たな(ショウレイ)が報告されている。
 - (5) (レイゼン)に手を合わせて花を手向ける。