

警察官（Ⅱ類）教養試験問題

平成22年4月29日（木）実施

※ 指示があるまで開いてはいけません。

【注意事項】

- 1 問題は全部で50題、25ページです。2時間で解答してください。
- 2 解答用紙の記入方法は次のとおりです。
 - (1) 組・教室番号、試験区分、受験番号はあらかじめ記入・マークされていますので、誤りがないか確認してください。
 - (2) 受付番号を正しく記入し、該当する番号の○をHBの鉛筆又はシャープペンシルで黒く塗りつぶしてください。

【例】 3組、試験区分男性警察官Ⅱ類、受験番号123番、受付番号654番の受験者は、下記ようになります。

	0	0	3
	番号		
組・教室番号	●	●	○
	①	①	①
	②	②	②
	③	③	●
	④	④	④
	⑤	⑤	⑤
	⑥	⑥	⑥
	⑦	⑦	⑦
	⑧	⑧	⑧
⑨	⑨	⑨	

	試験区分		
男性警察官	I類	○	
	II類	●	
	III類	○	
女性警察官	I類	○	
	II類	○	
	III類	○	

0	0	1	2	3
受験番号				
●	●	○	○	○
①	①	●	①	①
②	②	②	●	②
③	③	③	③	●
④	④	④	④	④
⑤	⑤	⑤	⑤	⑤
⑥	⑥	⑥	⑥	⑥
⑦	⑦	⑦	⑦	⑦
⑧	⑧	⑧	⑧	⑧
⑨	⑨	⑨	⑨	⑨

0	0	6	5	4
受付番号				
●	●	○	○	○
①	①	①	①	①
②	②	②	②	②
③	③	③	③	③
④	④	④	④	●
⑤	⑤	⑤	●	⑤
⑥	⑥	●	⑥	⑥
⑦	⑦	⑦	⑦	⑦
⑧	⑧	⑧	⑧	⑧
⑨	⑨	⑨	⑨	⑨

- (3) 教養試験解答欄は、各問題の解答番号1から5のうち正しいと思う解答番号の○をHBの鉛筆又はシャープペンシルで黒く塗りつぶしてください。
 - (4) 各問題とも正解は一つですから、二つ以上塗ると誤りになります。
 - (5) 一旦記入してから書き直す場合は、消しゴムできれいに消してください。
※ 砂消しゴムは絶対に使わないでください。
 - (6) 解答用紙にある注意事項をよく確認してください。
- 3 問題の計算などでメモをしたい場合は、問題用紙の余白を使ってください。
 - 4 試験時間中に問題集を切り取る、計算機を使用する、携帯電話を操作する等の行為は、一切禁止します。
 - 5 試験終了後、この問題集は持ち帰ることができます。

[No. 1] 「法の支配」と「法治主義」は、権力者の恣意を排するという点では共通し、ほとんど同義に使われるが、次のうち、とくに「法の支配」についての記述として、妥当なものはどれか。

- (1) 国民代表機関である議会で制定した法律を尊重することは自明の理といってよく、すべての国民は法律にそむくことはできない。
- (2) 個人の権利・自由を侵害してはならない、という法の根本原則を意味するものではなく、法に基づく行政が担保されているか否かを強調するものである。
- (3) 法の内容よりも、行政権の行使が法律に基づいているかどうかという、形式面を重視する意味合いが強い。
- (4) 自然法の支配という意味を含み、人間はだれもが正義の前には従順でなければならないことを要請する。
- (5) ドイツで最初に発達した伝統的な考え方で、法の解釈を法技術的、専門的な見地から明らかにしようとする。

[No. 2] 1919年に制定されたワイマール憲法（ドイツ共和国憲法）において初めて規定され、画期的とされる内容として、妥当なものはどれか。

- (1) 絶対王政の打破と封建的身分制度の撤廃
- (2) 個人の自由の確立と私的財産権の保障
- (3) 国家による国民生活への不当な干渉・侵害の禁止と私的自治の拡大
- (4) 個人の財産権の制限と、人たるに値する生活の保障
- (5) 貧富の差の拡大にともなって生じる過激な社会主義思想の抑制

[No. 3] 現代における政治的無関心のタイプとして、明らかに妥当でないものはどれか。

- (1) 政治は自分とは関係のないところでおこなわれるものであるとし、自分を判断停止状態におくという政治的無関心
- (2) 政治以外の芸術・日常生活などに価値をみだし、政治に背を向けるという政治的無関心
- (3) 政治の実態に対する、もろもろの不満を無関心という消極的態度によって示すという政治的無関心
- (4) 問題の所在はわかっているが、巨大な機構に対していなく個人の無力感、あるいは既成の政治集団への不信感から生じる政治的無関心
- (5) 個人が政治的意見を持つことが好ましくないとされたり、反対に政治的意見を持つことが強要されたりすることから生じる政治的無関心

[No. 4] 国会に関する記述として、妥当なもの組み合わせはどれか。

- A 国会は二院制をとるが、これは国民の意見を幅広く反映させ、慎重な審議を期待するためである。
- B 予算、条約の承認、内閣総理大臣の指名等に衆議院の優越が認められているが、これは衆議院には解散があり、国民の意思がより反映しやすいためである。
- C 国政調査権は衆参両院に認められているが、同一の事案についての調査がなされその結果が異なるとき、衆議院の調査結果が優先する。
- D 衆議院において特定の議案が議決できないとき、衆議院の求めに応じて参議院の緊急集会が開かれる。
- E 国会は国権の最高機関であると憲法上規定されるため、実質的に三権分立制は成立しておらず、国会は行政、司法に優越する立場にある。

- (1) AとB
- (2) AとE
- (3) BとC
- (4) CとD
- (5) DとE

[No. 5] 地方公共団体に関する記述として、妥当でないものはどれか。

- (1) 住民の発意によって、条例の制定やその改廃の請求を行なうことができる。
- (2) 住民は選挙で選ばれた首長・議員に対してのみ、その解職を求めることができる。
- (3) 地方公共団体の首長は、議会の議決した条例・予算について異議があるとき、理由を示して当該議決を再議に付すことができる。
- (4) 地方公共団体の首長は、自身に対する議会の不信任があったとき、その通知を受けた日から10日以内に議会を解散することができる。
- (5) 国会は特定の地方公共団体に対してのみ適用される法律を制定することができるが、この法律の成立には当該地方公共団体の住民の住民投票による同意を要する。

[No. 6] 経済は市場メカニズムにまかせておけば、すべてがうまくいくというわけではなく、市場の限界（失敗）というものがある。この市場の限界に関する記述として、妥当なものはどれか。

- (1) 電気やガスのような事業は、品質についての情報が不完全で取引が円滑に行われにくくなることがある。
- (2) 中古車の売り手と買い手の関係のように、市場を通さないで経済的な不利益が生じる外部不経済は、市場によっては調整することができない。
- (3) 公共財は、公共性が強く、複数の企業が供給することは効率的ではないために、独占が認められている。
- (4) 公害や環境破壊による不利益は、共同性、非競争性、非排除性という性質を持つため、税金による公費負担で政府が補償しなければならない。
- (5) 市場が寡占化するにつれて、企業が価格支配力を持ち、市場の自動調整作用がうまくはたらかなくなる。

[No. 7] リカードが提唱した比較生産費に関する記述として、妥当なものはどれか。

- (1) それぞれの国の生産条件は異なるから、自国内で生産費が相対的に高い財の生産に各国が特化し、その財を輸出し、自国での生産費が相対的に安い財を輸入することで、それぞれの国に利益がもたらされる。
- (2) それぞれの国の生産条件は異なるから、自国内で生産費が絶対的に安い財の生産に各国が特化し、その財を輸出し、自国での生産費が絶対的に高い財を輸入することで、それぞれの国に利益がもたらされる。
- (3) それぞれの国の生産条件は異なるから、自国内で生産費が相対的に安い財の生産に各国が特化し、その財を輸出し、自国での生産費が絶対的に安い財を輸入することで、それぞれの国に利益がもたらされる。
- (4) それぞれの国の生産条件は異なるから、自国内で生産費が絶対的に高い財の生産に各国が特化し、その財を輸出し、自国での生産費が相対的に安い財を輸入することで、それぞれの国に利益がもたらされる。
- (5) それぞれの国の生産条件は異なるから、自国内で生産費が相対的に安い財の生産に各国が特化し、その財を輸出し、自国での生産費が相対的に高い財を輸入することで、それぞれの国に利益がもたらされる。

[No. 8] 昨年12月、前政権による財政赤字の過少計上が表面化し、他のユーロ圏諸国に信用不安をひき起こした国はどこか。

- (1) ポルトガル
- (2) スペイン
- (3) ギリシャ
- (4) アイルランド
- (5) イタリア

[No. 9] 平成20年10月に設置された観光庁は、何省の外局に位置づけられているか。

- (1) 国土交通省
- (2) 経済産業省
- (3) 総務省
- (4) 文部科学省
- (5) 厚生労働省

[No.10] 文中の空所(ア)～(カ)に当てはまる語句の組み合わせとして、妥当なものはどれか。

徳川幕府の政治機構は、3代将軍家光のころに職名と職務内容が定まり、職制が整備された。(ア)が幕府の政務全体を統轄する常置の最高機関、それを補佐する(イ)は、主として(ウ)等に関する政務をつかさどり、(ア)の下で(エ)を監督する(オ)、(イ)に従い(ウ)や政務全般を監察する(カ)、寺社を管轄する寺社奉行、江戸市街を支配する町奉行、幕府財政と幕府領の支配にあたる勘定奉行などの役職がおかれた。

- | | (ア) | (イ) | (ウ) | (エ) | (オ) | (カ) |
|-----|-----|-----|-----|-----|-----|-----|
| (1) | 老中 | 若年寄 | 旗本 | 大名 | 大目付 | 目付 |
| (2) | 大老 | 若年寄 | 大名 | 旗本 | 大目付 | 目付 |
| (3) | 老中 | 側用人 | 大名 | 旗本 | 目付 | 大目付 |
| (4) | 大老 | 側用人 | 旗本 | 大名 | 目付 | 大目付 |
| (5) | 老中 | 若年寄 | 大名 | 旗本 | 大目付 | 目付 |

[No.1 1] 幕末に米国、オランダ、ロシア、英国、フランスの5カ国と結ばれた安政五カ国条約の改正交渉において、関税自主権を完全に回復したときの外務大臣は誰か。

- (1) 寺島宗則
- (2) 井上馨
- (3) 青木周蔵
- (4) 小村寿太郎
- (5) 大隈重信

[No.1 2] ヘレニズム時代の文化に関する記述として、妥当なものはどれか。

- (1) ホメロスの作とされる二大叙事詩「イリアス」「オデュッセイア」は、人々にとって人生の生き方や知恵を学ぶ教科書ともなった。
- (2) 粘土板に葦の莖や金属の尖端のペンで押しつけるようにして書かれた、^{くさび}楔の形をしている文字がシュメール人によってつくられた。
- (3) 彫刻では「ラオコーン」のような躍動と激情の描写にすぐれた作品や、「ミロのヴィーナス」のような甘美な女神像が多くつくられた。
- (4) 簡素で荘重な、ドーリア式建築の代表といわれるパルテノン神殿がつくられ、市民の宗教的中心となった。
- (5) 土木・建築では、軍道・水道橋・円形競技場（コロッセウム）・カラカラ浴場・凱旋門などの巨大建造物がつくられた。

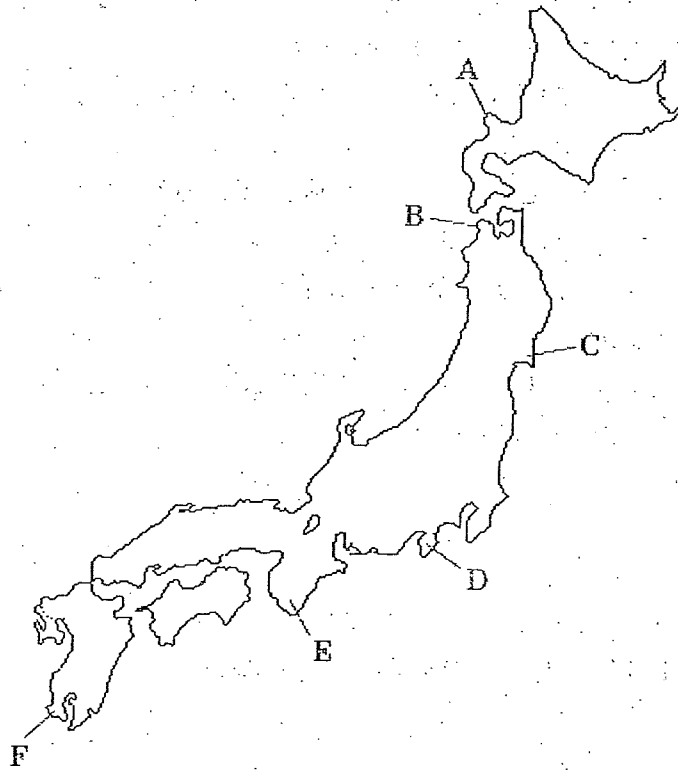
[No.1 3] キリスト教の影響をうけ、人はみな上帝（ヤハウェ）のもとに平等であると主張し、宗教結社の上帝会を組織し、1851年広西省で挙兵した人物は誰か。

- (1) 林則徐
- (2) 孫文
- (3) 李鴻章
- (4) 林彪
- (5) 洪秀全

[No. 1 4] 氷河地形だけの組み合わせとして、妥当なものはどれか。

- (1) ウバーレ、ホーン、V字谷
- (2) モレーン、ドリーネ、ホーン
- (3) ラグーン、カール、U字谷
- (4) ラグーン、ウバーレ、ドリーネ
- (5) モレーン、カール、U字谷

[No. 1 5] 図のA～Fの半島名の組み合わせとして、妥当なものはどれか。



- | | A | B | C | D | E | F |
|-----|------|------|------|------|-------|------|
| (1) | 積丹半島 | 下北半島 | 男鹿半島 | 房総半島 | 和歌山半島 | 大隅半島 |
| (2) | 積丹半島 | 津軽半島 | 牡鹿半島 | 伊豆半島 | 紀伊半島 | 薩摩半島 |
| (3) | 根室半島 | 下北半島 | 能登半島 | 伊豆半島 | 和歌山半島 | 薩摩半島 |
| (4) | 知床半島 | 下北半島 | 牡鹿半島 | 房総半島 | 紀伊半島 | 大隅半島 |
| (5) | 知床半島 | 津軽半島 | 男鹿半島 | 伊豆半島 | 志摩半島 | 国東半島 |

[No.1 6] 菅原道真の作品とされる和歌はどれか。

- (1) 「大海の磯もとどろに寄する波割れて砕けてさけて散るかも」
- (2) 「敷島の大和心を人間はば朝日にほふ山ざくら花」
- (3) 「東風吹かばにほひおこせよ梅の花主なしとて春を忘るな」
- (4) 「願はくは花の下にて春死なむそのきさらぎの望月のころ」
- (5) 「かすみたつながきはるひにこどもらとてまりつきつつこのひくらしつ」

[No.1 7] 近代ヨーロッパにおける科学・哲学者等に関する記述として、妥当なものはどれか。

- (1) イギリスの医師ラプラスは、種痘法を発明した。
- (2) スウェーデンの植物学者ニュートンは、動植物の二名法を確立した。
- (3) イギリスの物理学・数学者リンネは光の分析、微積分法の発見で知られる。
- (4) フランスの哲学者デカルトは、「人間は考える葦である」と述べた。
- (5) オランダの哲学者スピノザは、自然そのものを神とみなした。

[No.1 8] 中国の思想家とそれに関する言葉の組み合わせとして、妥当なものはどれか。

- (1) 孔子 —— 無為自然
- (2) 孟子 —— 浩然の気
- (3) 荀子 —— 惻隱の心
- (4) 老子 —— 克己復礼
- (5) 朱子 —— 知行合一

[No.1 9] 四字熟語の意味についての説明として、妥当なものはどれか。

- (1) 「朝三暮四」とは、命令がしきりに改められ定まらないことである。
- (2) 「八面六臂」とは、だれからも嫌われないように要領よくつきあうことである。
- (3) 「毀誉褒貶」とは、些細なことでもけなさずにほめたたえてあげることである。
- (4) 「呉越同舟」とは、仲の悪い者同士が同一の場所・境遇に居合わせていることである。
- (5) 「隔靴搔痒」とは、態度や行動が浅はかであらうわついていることである。

[No.20] 次のうち油脂に加えて加熱すると、けん化が起こってセッケンを生じるものはどれか。

- (1) エタノール
- (2) 希塩酸
- (3) 水酸化ナトリウム
- (4) ベンゼン
- (5) カルボン酸

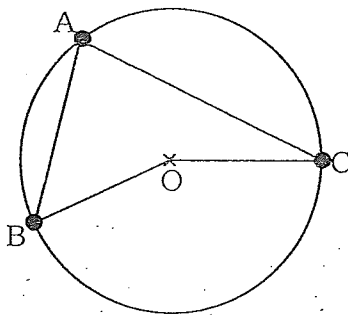
[No.21] 植物細胞には存在するが、動物細胞には存在しない構造の組み合わせとして、妥当なもののはどれか。

A 細胞壁 B 細胞膜 C 中心体 D 細胞質 E 葉緑体

- (1) AとB
- (2) AとE
- (3) BとE
- (4) CとD
- (5) DとE

[No.22] 図のような中心Oの円周上に点A、B、Cがあり、 $\angle ABO$ は40度、 $\angle ACO$ は25度である。このとき $\angle BAC$ の大きさは、次のどれか。

ただし、図の角度は必ずしも正確ではない。



- (1) 65度
- (2) 70度
- (3) 75度
- (4) 80度
- (5) 85度

[No.2 3] 次の英文の内容と一致するものとして、最も妥当なものはどれか。

Let me say something about the town—the town where I was born and raised and first slept with a girl.

The sea out in front, hills behind, and right next door, a major port. It's a tiny speck of a town. Flying along the highway on the way back from the harbor, I make a point of not smoking. In less time than it takes to strike a match, I might just miss the town.

Population of seventy thousand plus, a figure that will hardly have changed in five years. Most of these people live in two-story houses with yards and own automobiles; two-car households are not uncommon.

These statistics aren't just something I dreamed up; they're from actual findings published each year-end by the registrar's office. I especially like the part about "two-story houses."

The Rat's house had three stories and a rooftop greenhouse no less. A basement garage carved into the slope was home to his father's Mercedes-Benz and the Rat's own TR-3. Strangely enough, the garage with its two roommates was probably the most "homey" room in the house.

[語義] a tiny speck of ほんの小さな / make a point of 一することになっている /
statistic 統計値、数字 / registrar's office 役所の統計課 /
no less (驚きや称賛を表して) 実に、まさしく / TR-3 自動車の車種

- (1) 僕が生まれ育ったのは、海と山に挟まれた大きな港街で、隣接するごく小さな街とは国道で結ばれていた。
- (2) 港から国道を車で飛ばす時は煙草を吸わないことにしていたが、今ではマッチを擦るだけで、この小さな街のことが懐かしく思い出される。
- (3) 街の市役所が毎年度末に出す統計資料によると、街の人口は7万余で、住民の大半は庭つきの二階建て住宅に住み車を所有している。
- (4) この小さな街の中でも、三階建ての家に住む鼠はかなり裕福な家庭で生まれ育ち、広い庭の温室で野菜を栽培している。
- (5) 斜面をくりぬいた地下のガレージには、鼠の家族以外に2人の家政婦が住んでおり、最も家庭らしい雰囲気を持っている場所だった。

[No.2 4] 次の英文の内容と一致するものとして、最も妥当なものはどれか。

The following is the number of believers or followers of religions based on reports of Japanese religious corporations.

Shintoism 118.38million

Buddhism 89.03million

Christianity 1.51million

Others 11.15million

(Agency for Cultural Affairs, *Religious Yearbook 1994*)

Strangely enough, these numbers, when added up, amount to 220.07million, which is far greater than the Japanese population. It is partly because the religious corporations surveyed did not report the number of people who ceased to be followers.

When one asks the Japanese, "What's your religion?" many of them, excluding Christians and followers of new religions, would answer "I have no religion."

However, when asked "What is the religion of your family?" they might answer "Jōdo sect of Buddhism," or "Nichiren sect of Buddhism." That means, the religion that each family has had since ancient times for the purpose of worshiping their ancestors has stayed with the household. Often times it has little to do with one's religious faith.

[語義] Agency for Cultural Affairs 文化庁 (編) / surveyed 調査対象の

- (1) 信者数の合計が日本の総人口より多くなっているのは、神道と仏教という複数の宗教を信仰する者が多いためである。
- (2) 日本で信仰されている仏教の中で、最も多くの人に信仰されている宗派は浄土宗で、二番目が日蓮宗である。
- (3) 信仰している宗教は何かと聞くと、キリスト教や新宗教の信者とくらべ、おおかたの仏教徒は浄土宗や日蓮宗といったその宗派まで答える。
- (4) 日本では個人の信仰と関係なくそれぞれの家に、昔から先祖を祀るための宗教が存在している。
- (5) 一般に日本の家は、昔から先祖を寺に祀るという慣習が根付いているように、仏教への信仰心はあつい。

[No.2 5] 次の空所に入れるのに最も妥当なものはどれか。

I wanted to go to that restaurant just because I () there before.

- (1) have never gone
- (2) had never been
- (3) have never been
- (4) never went
- (5) have to be

[No.2 6] 次の5つの空所に (a) ~ (e) を正しく並べ替えて入れた場合、(A) に当てはまる語句として、最も妥当なものはどれか。

Around 19 billion Lego bricks are produced each year.

This is () Lego () (A) () the Earth ()

(a) to (b) round (c) five times (d) go (e) enough

- (1) a
- (2) b
- (3) c
- (4) d
- (5) e

[No. 2 7] 次の文章中の空所 (ア) ~ (エ) のどれにも当てはまらないものとして、最も妥当なものはどれか。

(略) 日本人は人と人との和といふことを大切にします。自我の主張を醜い、やぼなごとと考へる民族です。相手が自分の思ふとほりになることに快感をおぼえるよりは、相手と自分のあひだに摩擦のない状態を無条件に喜ぶのです。西洋人の眼から見れば、あるいは近代的な考へかたからすれば、それがなまぬるい「(ア)」のやうに思へるかもしれない。確にさういふ面があるのです。

近ごろ、数人の学者たちの座談会で、日本人の特性として「長いものには巻かれろ」といふ封建的習性と、見てくれの体面だけを重んじる(イ)とが挙げられてゐるのを読みました。なるほどさういふこともいへませう。そのひとたちのいふやうに、戦争中は(ウ)を讃美し、戦後はアメリカ一辺倒になり、最近では反米といふわけで、時の花をかざしにする傾向があります。これが西洋人には理解できない。表面は「長いものに巻かれろ」で動いてゐるが、腹の中はちつとも変らない、面従腹背の怪しからん民族だともふらしいのです。この性格は順応性が強いともいへようし、(エ)、先物買ひのずるさともいへませう。

- (1) 地域主義
- (2) 軍国主義
- (3) 日和見主義
- (4) 形式主義
- (5) ことなかれ主義

[No. 2 8] 次の短文A~Gを並べかえて一つのまとまった文章にしたい。最も妥当な組み合わせはどれか。

A あるいはなんとなく憂鬱であり、なんとなく楽しいので、なぜこう憂鬱なのか、なぜこう楽しいのか、感じている本人自身にもはっきりしないものです。

B 感情は心の全体的な動きで、ある傾向を表します。

C いっぽう、思考は心像という心理的な単位を縦に並べたり、横に並べたりして、それらの間に関係を作り上げる働きです。

D 心の働きには大きくふたつの水準があります。

E ひとつは感情で、もうひとつは思考です。

F 感情と違って、「心像」というある程度形あるものを相手にします。

G なんとなく好き、なんとなく嫌い、なのであって理由ははっきりしません。

- (1) B-C-A-D-F-G-E
- (2) B-E-F-C-D-G-A
- (3) B-G-A-C-F-D-E
- (4) D-E-B-G-A-C-F
- (5) D-B-F-E-C-A-G

[No.29] 次の文章の要旨として、最も妥当なものはどれか。

前近代の論理と思考は、分析的言語と概念による近代人のそれとは、およそ次元を異にしている。ことがらの^{ほら}孕んでいる相互に矛盾しあう側面、たがいに背反しあう諸機能も、ことがらのありように即して全一的に把握されている。分析にもとづく諸概念の呈示ではなく、比喩による全体の捕捉と、事物による象徴とが、思考作業の根幹である。たとえば主婦権というとき、主婦が家庭内で日常的に担っている権利と義務、家庭管理の業務内容を分析的に列挙するのがいまのやりかたである。むかし人はそうでなかった。彼らは彼らにとっての主婦の全体像を、生身のままシャモジという事物によって象徴し、それでも納得し、了解したと考える。シャモジ自身に呪的霊能がみとめられたのも、それが^{しよじょう}如上の思考方式にささえられ、シャモジが主婦そのものの姿として承認されて、両者のあいだに霊的交流と交感があると信じられていたからである。

- (1) 前近代人には論理と思考が存在しておらず、ただ霊的交流や霊的交感に基づく対象物への非論理的理解があるだけである。
- (2) 前近代人は、相手方に呪的霊能を認めえたとき、はじめてその相手を吟味する試みがなされ、分析的な作業をとおして理解しようとする。
- (3) 前近代人は、分析的言語や概念化という思考方式を持たなかったため、対象を理解するには霊的直観による以外になかった。
- (4) 前近代人がある事物を説明しようとするときは、分析的にではなく、権威という概念によって明らかにしようとする。
- (5) 前近代人は、対象物についての矛盾背反を承知しつつ全体的に把握し、象徴としてとらえるということで、その対象物を納得し了解してきた。

[No. 3 1] 次の文章の内容に合致するものとして、最も妥当なものはどれか。

ドガ※は、慰めに詩を書いているが、ある時、マラルメ※に会って、詩を書くのはむづかしい、思ひつきはいくらでも浮ぶのだが、と言つたところが、マラルメは言下に、詩は思ひつきで書くのではない、言葉で書くのだ、と言つたさうである。この逸話は、詩人、或ひは一般に言葉を扱ふ芸術家に対する、世人の大きな誤解をはつきり語つてゐる。まづ詩的な観念があり、それを言葉にしたものが詩であるといふ偏見である。自分だつて、詩人のやうな豊かな感情なり、複雑な観念なりは持つてゐるが、たゞそれを言葉にすることが下手なだけで、といふふう考へるが、さういふ考へかたは、詩人の考へ方から最も遠いのである。詩の形式から離れた詩の内容といふものはない、とは、よく言はれることだが、一般には、このことは少しも徹底して理解されてはゐない。何故かと言ふと、この考へを押し進めて行くと、一つの単語の場合でもその形と意味とは離すことができない。両者は同じものだ、といふことになる筈で、これは、まことに考へにくいことだからである。言葉といふ箱の中に意味が入つてゐるやうに言葉には意味が含まれてゐる、と分析的に考へるのは、凡そ物を考へるといふ場合、我々に必至のやり方だからである。ところが、言葉を扱ふ時に詩人は、さういふ考へ方に、なんの興味も持たぬ、或ひは、さういふ考へ方に極力反抗するのである。

詩人にとって、言葉とは、詩作といふ行為の為の道具なのである。従つて言葉の意味を知るとは、詩の作り方を知るといふことに他ならない。歌ふといふ行為が、自ら言葉を生むのであり、この行為に熟練することによつてしか、言葉の意味を明らかにする道はないのである。このやり方は、子供が言葉の意味を確かめて行く、あの自然なやり方と同じであつて、詩人は、この素朴なやり方を、非常に複雑な精緻な言葉の扱ひにも、一貫して押通さうと努めるのである。

※ドガ フランス印象派の画家、 マラルメ フランス象徴派の詩人

- (1) 行為によつて言葉の意味を明らかにしていくのは、子供だけが用いる方法である。
- (2) 詩人は一般の人とは異なり、言葉という箱の中に意味が入つてゐると考へている。
- (3) 詩人は詩作という行為を繰り返すことによつて、言葉の意味を明確にしていく。
- (4) 詩人が持つ豊かな感情なり、複雑な観念なりが、詩作に関連しているわけではない。
- (5) 詩人は行為の様式としての言葉を、その形と意味とを切り離して考へる。

[No.30] 次の文章の要旨として、最も妥当なものはどれか。

古画を見るのに、何か特別の作法があるのでは、というのは、まったくの誤解だ。そんなものは何もない。それが泰西名画であろうと、日本の古画であろうと、要は絵は、鑑賞者ひとりひとりが心静かに見ればすむことだ。もしそこに作法めいたものがあるというのなら、作品に対する敬愛の念を忘れず、これを傷つけないよう、鑑賞者自らが細心の注意を払うことは言うまでもないが、あとは、それが美術館・博物館での鑑賞ならば、ほかの鑑賞者の迷惑にならないよう心すれば、それで充分ではないだろうか。またそれが所蔵家個人のお宅での拝見の場合には、貴重な作品を、それこそ所蔵者の貴重な時間を割いて見せてもらうのであれば、当然、それ相応の感謝の気持ちと、礼を失しないための常識的配慮とは必要であるにしても、作品を見るための特別な作法はないといってよいだろう。

が、いずれにせよ日本の古い絵もまた、それが古いからといって変に身構えるのではなく、もっともっと気楽に、何ものにもとらわれない自由な眼で見るとを勧めたい。そうすれば、古色蒼然、単に抹香臭いだけと思っていた日本の古画が、実に豊かな美の世界をもっていることに気づかされるに違いない。

- (1) 伝承された古画というものは、幾多の時代を経て現代に息づいているものであり、それなりの予備知識があっても、鑑賞を邪魔するものではない。
- (2) 古画だからといって、それを鑑賞するのに特別な約束事などはなく、ただ先入観のない自由な眼で気楽にこれを見れば、その豊かな美しさに気づかされる。
- (3) 西洋の油絵に比べて堅牢性で劣るが、繊細さで勝る日本の古画を鑑賞する場合、鑑賞者自らが細心の注意を払い、心静かにその幽玄の世界に遊ぶべきである。
- (4) 古画を見るという場合には、美術館であれ個人宅であれ、ただ無心にこれらを見るだけではなく、遠い昔に思いを馳せる心情を持つことは最低限の礼儀である。
- (5) 長い時間を経て現在もなお人々の眼にさらされる古画は、一般に褪色や汚れや抹香臭さはあるものの、その偉大さに自然と感謝の気持ちがわいてくるものである。

[No.3 2] 次の文章の要旨として、最も妥当なものはどれか。

この休止することを知らぬ自然自身は一体誰が造ったものであるか。造り手の姿はどこにも見えないが、人間との類推によって造物者を想像することは勝手である。しかし造物者は人間のように「手」を持って物を造りはしないのである。特別な道具、特別な機械を使うのではないのである。文字通り自然に物の姿が変わり、物が出来上がっていくのである。「天道不言而品物亨歳功成」（「天道もの言わずして品物とおりの歳功なる」）という言葉の通りである。人間自身の肉体もまた自然の所産として、道具を使わずして造られたものである。肉体の一部であるところの手自身は、けっして固体としての道具ではないのである。

造物者が手を使わなかったとするならばそのかわりに使った物は何であったか。人間との類推によって造物者の心を想像することも勝手である。その心はしかし人間よりもはるかに理性的なものである。自然は自分自身の規則を持っている。そしてそれから逸脱した振舞いをする^{いっだつ}ことはけっしてないのである。自然力の発現、自然の姿の変化は、すべて自然が自ら定めた規律に忠実である結果として生まれてきたものである。造物者は他を動かす「手」を持たない、造物者自らの「心」に従って自ら変化していくのである。

しからは造物者の心は何によって知り得るであろうか。人間の心は果してなんらかの仕方でこれと共感し得るのであろうか。これに対して解答を与えるものは「科学」である。科学は現に自然自身が遵奉^{じゅんぽう}しているさまざまな規則を見つけだしているのである。いかなる方法によってこれを見つけだしたのであるか。あたかも目に見える顔形を通じてその人の心を察し得るがごとく、目に見える自然の姿を通じて造物者の心を察し得たのである。物を造るのに「手」が必要であったのと同じ程度において、物を知るには「目」が必要であった。しかしながら目が単なる肉眼に止まっている間は自然の表層しか見ることが出来なかった。顕微鏡が発明され、エックス線発生装置が考案され、それによって肉眼が補強されて、初めて自然の本当の心を見抜くことが出来たのである。ところがそれらはまた、すべて人間の手によって造りだされた「機械」であった。ここでも機械が人間と自然とを結ぶほとんど唯一の通路として横たわっているのを見いだすのである。しかしそれはけっして孤立しているのではない。形ある物としての機械の背後には目に見えない自然力があり、物も力も不動の自然法則に従って変化していくものであることを忘れてはならないのである。

- (1) 自然そのものを造った者を考えるとき人は必ず循環に陥る。
- (2) 人間は自らの姿を通じて造物者の心を察することができる。
- (3) 科学は人間と造物者の心とを結びつける機械をもたらした。
- (4) 自然を造った何ものかの心にあたるものは自然法則である。
- (5) 人間が機械を作るというのも実際には造物者の作用である。

[No.3 3] A、B、Cの3人に対し、それぞれ5つの問いに「はい」か「いいえ」のどちらかで答えでもらった。次のア～エのことがわかっているとき、確実にいえるものはどれか。

ア Aは4つの問いに対して「はい」と答え、1つの問いに対して「いいえ」と答えた。

イ Bは3つの問いに対して「はい」と答え、2つの問いに対して「いいえ」と答えた。

ウ Cは2つの問いに対して「はい」と答え、3つの問いに対して「いいえ」と答えた。

エ 3人とも同じ答えの問いは1つだけで「はい」と答えた。

- (1) 2人が「はい」と答えた問いが1つあった。
- (2) 2人が「いいえ」と答えた問いが2つあった。
- (3) AとBの2人だけが「いいえ」と答えた問いが1つあった。
- (4) AとCの2人だけが「はい」と答えた問いが1つあった。
- (5) BとCの2人だけが「いいえ」と答えた問いが2つあった。

[No.3 4] 次のア～エの条件から確実にいえるものはどれか。

ア AならばBである。

イ BならばDでない。

ウ CならばBでない。

エ DならばCである。

- (1) AならばCでない。
- (2) BならばCである。
- (3) CでなければBでない。
- (4) DならばBである。
- (5) AでなければDである。

[No.35] 重さの異なるA、B、C、D、Eの5個の錘^{おもり}がある。この錘の重さを量ったところ、次のア～エのことが判明した。これら5個の錘の重さの順序は全部で何通り考えられるか。

ア AとEの合計の重さはDの重さに等しい。

イ BとEの合計の重さは、CとDの合計の重さよりも軽い。

ウ BとDの合計の重さは、CとEの合計の重さよりも重い。

エ DとEの合計の重さは、BとCの合計の重さと等しい。

- (1) 6通り
- (2) 7通り
- (3) 8通り
- (4) 9通り
- (5) 10通り

[No.36] 100円硬貨が6枚ある。この硬貨6枚をA、B、C、Dの4人の子どもに分ける方法は全部で何通り考えられるか。ただし、硬貨6枚は全て子ども達に分け与えるものとするが、もらえない子どもがいてもそれはかまわないものとする。

- (1) 64通り
- (2) 68通り
- (3) 74通り
- (4) 78通り
- (5) 84通り

[No.3 7] ある会社の人事異動の方針は、同一課に3年間は確実に在職させ、満3年を経過すると必ず他課に転出させるということである。A課は9名の職員で構成されているが、在職年数の内訳は、1年目、2年目、3年目の職員がそれぞれ3人ずつとなっている。この度、仕事の関係でA課の職員を倍増することになり、来年度の異動から毎年、その前年の転入者数より1人ずつ多く転入させることになった。この方法で増員していった場合、目的の倍増が達成できるのは増員を始めてから何年目か。

- (1) 3年目
- (2) 4年目
- (3) 5年目
- (4) 6年目
- (5) 7年目

[No.3 8] ある商社の海外駐在員45人の英語、ドイツ語、フランス語の会話力について調査したところA～Dが次のように話した。この商社の社員45人のうち、英語とドイツ語の二か国語のみの会話力を有する者は何人か。

A：「英語、ドイツ語、フランス語の会話力のある者はそれぞれ38人、23人、15人である。」

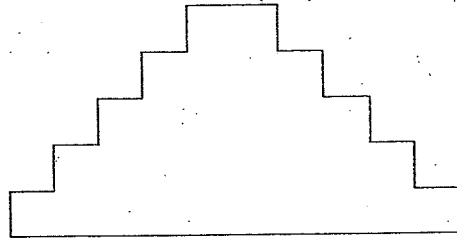
B：「英語の会話力があり、かつ、ドイツ語の会話力もある者は17人、ドイツ語の会話力があり、かつ、フランス語の会話力もある者は11人、フランス語の会話力があり、かつ、英語の会話力もある者は13人いる。」

C：「45人の商社員は英語、ドイツ語、フランス語のいずれかの会話力を有している。」

D：「英語、ドイツ語、フランス語の三か国語の会話力を有する者は偶数名いる。」

- (1) 6人
- (2) 7人
- (3) 8人
- (4) 9人
- (5) 10人

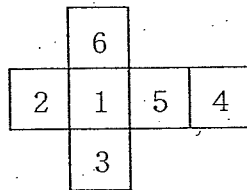
[No.39] 同形、同大の立方体を積み上げて、前後左右いずれの側面から見ても図のように見えるようにするためには、立方体はいくつ必要となるか。ただし、最上段には4個の立方体を用い、透き間なく積まれるものとする。



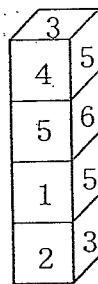
- (1) 200 個
- (2) 220 個
- (3) 240 個
- (4) 260 個
- (5) 280 個

[No.40] 次の図Aに示すような展開図のサイコロを図Bのように机の上に4個積み重ねた。この状態で、周囲から見えない数字の和はいくらか。ただし、図Bで数字の向きは考慮しないものとする。

図A

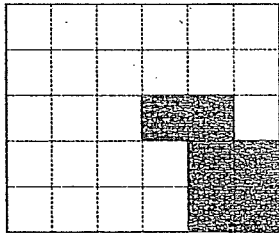


図B

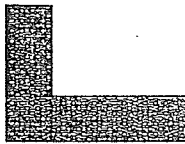


- (1) 21
- (2) 22
- (3) 23
- (4) 24
- (5) 25

[No.4 1] 次の図の中に、A～Eの中から4枚を選んで裏返すことなく回転することを許して並べ合わせると長方形ができるが、その際不要となるものはどれか。



A



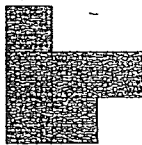
B



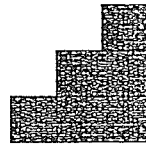
C



D

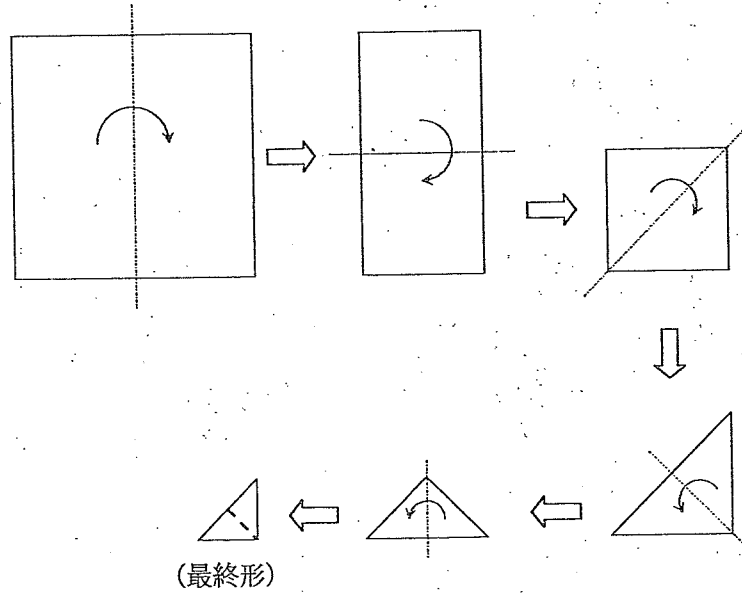


E

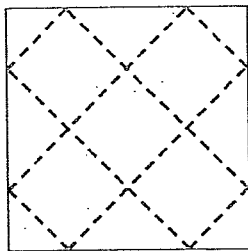


- (1) A
- (2) B
- (3) C
- (4) D
- (5) E

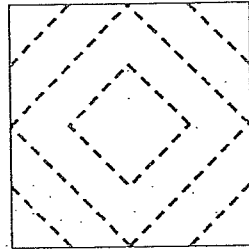
[No. 4 2] 正方形の折り紙を下図のように一点鎖線部で谷折りにして順に折っていき、最終的に得られた形のものに点線部を針で刺して印をつけた。これを広げるとどのような模様になるか。



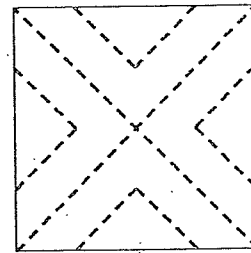
(1)



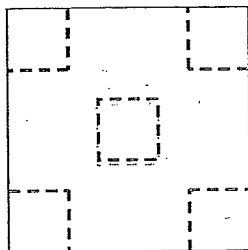
(2)



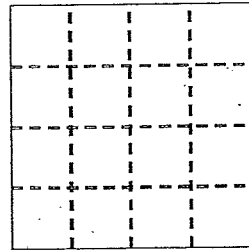
(3)



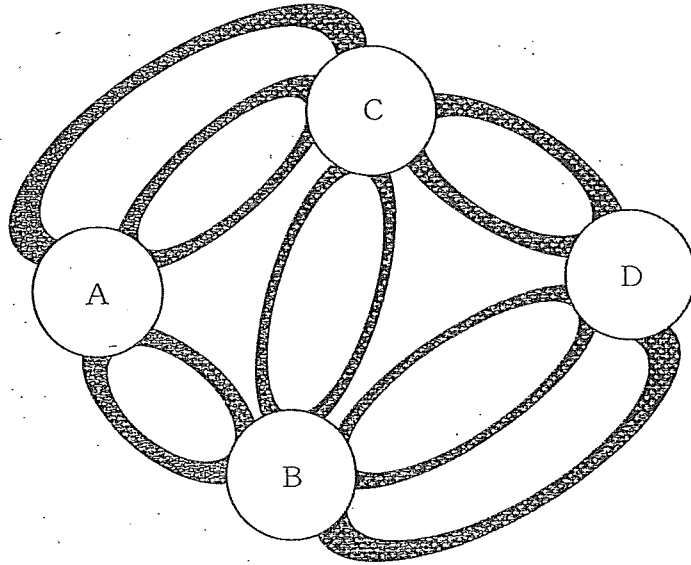
(4)



(5)



[No.4 3] A、B、C、D市間には下図に示すような道路がある。A市からD市に行く方法は何通りあるか。ただし、C市からA市、B市からA市、C市からB市へ戻ることはしないことにする。



- (1) 10通り
- (2) 12通り
- (3) 16通り
- (4) 18通り
- (5) 20通り

[No.4 4] 160 kgの米を100人の人に配った。大人の男性には一人5 kg、大人の女性には一人3 kg、子ども一人には0.5 kgずつそれぞれ配った。子どもの人数が大人の女性の4倍だったとすると、大人の男性は何人か。

- (1) 11人
- (2) 13人
- (3) 15人
- (4) 17人
- (5) 19人

[No.4 5] 今、時計の針は4時ちょうどを指している。今から時計の針の長針と短針がちょうど重なる最も早い時間は何分何秒後か。

- (1) 約21分33秒
- (2) 約21分41秒
- (3) 約21分49秒
- (4) 約21分58秒
- (5) 約22分13秒

[No.4 6] 町内の運動会の賞品として300円、450円、700円の3種類を用意した。300円のは450円のものより多く、450円のは700円のものより多く用意したところ合計金額は5,400円であった。450円の賞品はいくつ用意したことになるか。

- (1) 4個
- (2) 5個
- (3) 6個
- (4) 7個
- (5) 8個

[No.4 7] 104、146、314の3つの数を、ある数で割ったところ、余りはいずれも20になった。このある数は全部でいくつあるか。

- (1) 1つ
- (2) 2つ
- (3) 3つ
- (4) 4つ
- (5) 5つ

[No.4 8] 下に示す計算式の空所□に当てはまる数を記入して式を完成させた場合、式中の◎に入る2つの数の和はいくつか。

$$\begin{array}{r} 1\square\square \\ \times \square 3 \\ \hline 5\square\square \\ \square\square\square \\ \hline 8◎◎5 \end{array}$$

- (1) 8
- (2) 9
- (3) 10
- (4) 11
- (5) 12

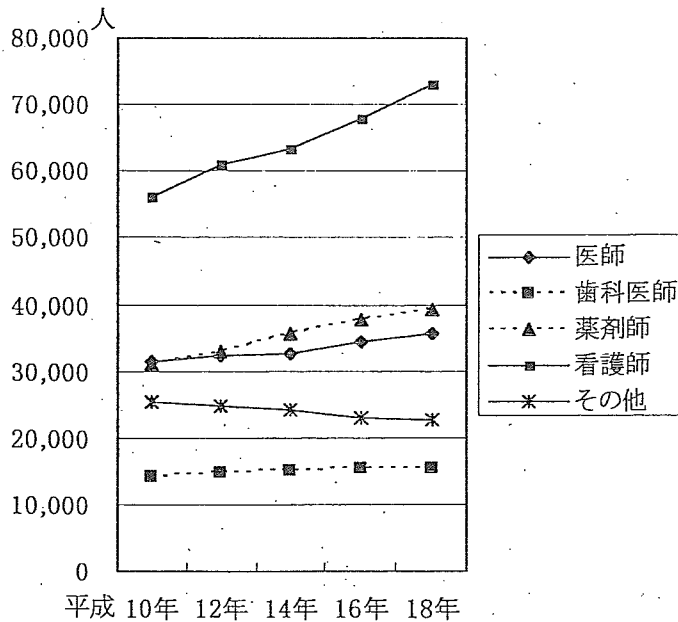
[No.49] 次の表は、全国の警備員数の推移を示したものである。警備員には常用警備員と臨時警備員の二種類があり、表の臨時警備員割合は、総数に占める臨時警備員数の割合である。この表から正しくいえるものはどれか。

区 分	平成 16 年	平成 17 年	平成 18 年	平成 19 年	平成 20 年
総 数	474,922	481,794	491,082	494,110	512,331
臨時警備員割合	21.5	21.1	20.2	19.4	19.1

(注) 総数の単位は人、臨時警備員割合の単位は%である。

- (1) 平成 16 年から 20 年の間、常用警備員数と臨時警備員数の差は、毎年拡大している。
- (2) 平成 16 年の常用警備員数は、同年の臨時警備員数と比較すると、30 万人以上多い。
- (3) 平成 17 年の臨時警備員数は、前年のそれと比較すると、2000 人以上増えている。
- (4) 平成 18 年の警備員総数は、前年のそれと比較すると、5%以上増えている。
- (5) 平成 16 年の臨時警備員数を 100 としたとき、20 年の指数は 100 よりも大きい。

[No.50] 次の図は、東京都の医療従事者数の推移を種類別に示したものである。この図から正しくいえるものはどれか。



- (1) 平成 10 年から 18 年の間のどの年次でも、看護師数は医師数の 2 倍を超えている。
- (2) 平成 14 年の薬剤師数を 100 としたとき、平成 10 年のその指数は 70 弱である。
- (3) 平成 16 年に比較して平成 18 年の構成比が減少しているのは、そののみである。
- (4) 平成 18 年の医師数は、平成 10 年のそれよりも 30%以上増加している。
- (5) 平成 18 年の歯科医師数は、同年の医療従事者数全体の 10%以下である。

警察官（Ⅱ類）国語試験問題

平成22年4月29日（木）実施

【注意】

- 1 試験時間は20分です。
- 2 くずし字や乱雑な字は採点の対象とならないので、楷書で丁寧に記入してください。また、旧字体や略字は、誤答となります。
- 3 試験終了後、この問題用紙は持ち帰ることができます。

- 1 次の（ ）内の漢字の読みをひらがなで書きなさい。（30問）
- 2 次の（ ）内のひらがなを漢字で書きなさい。（30問）

- | | |
|-----------------|-----------------------|
| (1) (奇抜)な服装 | (1) 環境が(あっか)する |
| (2) 論文の(骨格) | (2) 機構を(かいかく)する |
| (3) (山岳)病 | (3) 防犯カメラを(せっち)する |
| (4) (一貫)した方針 | (4) 都合のよい方に(かいしゃく)する |
| (5) (懐古)趣味 | (5) (やくわり)を果たす |
| (6) (苛烈)をきわめる | (6) (さいぼう)が分裂する |
| (7) (精彩)を欠く | (7) 紙幣を(へんぞう)する |
| (8) 疑わしい(眼差)し | (8) 状況を(しんこく)に受け止める |
| (9) (感慨)にふける | (9) 敵陣に(とつにゆう)する |
| (10) (不遇)な生涯 | (10) (なんじゃく)な地盤 |
| (11) 街中を(闊歩)する | (11) 仲間から(こりつ)する |
| (12) 怒りを(抑制)する | (12) ほめられて(うちょうてん)になる |
| (13) 学術の(振興) | (13) チームを(けっせい)する |
| (14) (余剰米) | (14) 学校の(ちつじょ)を乱す |
| (15) 罪を(裁)く | (15) (そうご)に助け合う |
| (16) (担架)で運ぶ | (16) 気分(てんかん) |
| (17) (湾岸)道路 | (17) 水道の(じゃぐち) |
| (18) (善意)の人々 | (18) 暴力団を(ついほう)する |
| (19) (甲乙)付けがたい | (19) (ぜったい)に許さない |
| (20) (慣行)にとらわれる | (20) (ざんしん)なアイデア |
| (21) (空虚)な生活 | (21) 株を(ばいばい)する |
| (22) (争奪)戦 | (22) 会社の(どうりょう) |
| (23) (屈辱)を受ける | (23) (ぼうえき)摩擦 |
| (24) (酒宴)を催す | (24) (へんけん)を持つ |
| (25) (湖畔)の宿 | (25) (そうだい)な構想 |
| (26) (憎)いことを言う | (26) 犯人を(ほうい)する |
| (27) (卸値)で取引する | (27) (きんとう)に分ける |
| (28) 十分に(発酵)させる | (28) (しょとく)税 |
| (29) (賢明)な判断 | (29) 世界平和に(きよ)する |
| (30) 町が(壊滅)する | (30) 犯人の(がぞう)を公開する |

1次試験解答

学科

コース

クラス

出席番号

氏名

試験名	警視庁Ⅱ類
試験日	2010年4月29日

解 答

1	4	11	4	21	2	31	3	41	3
2	4	12	3	22	1	32	4	42	1
3	5	13	5	23	3	33	2	43	5
4	1	14	5	24	4	34	1	44	3
5	2	15	2	25	2	35	3	45	3
6	5	16	3	26	4	36	5	46	1
7	5	17	5	27	1	37	2	47	2
8	3	18	2	28	4	38	2	48	4
9	1	19	4	29	5	39	2	49	1
10	1	20	3	30	2	40	5	50	5

教養試験 自己採点合計

点

適性試験解答数

問