

【No. 1】 我が国の国会に関する記述として最も妥当なのはどれか。

1. 国会の種類には、常会(通常国会)、臨時会(臨時国会)、特別会(特別国会)がある。常会は毎年1回召集されることになっている。
2. 参議院の存在意義は、衆議院に再考の機会を与え、法律案の審議に慎重を期すことにあり、法律案の提出権は衆議院議員のみに認められている。
3. 法律案については予算と同様に衆議院に先議権がある。衆議院に提出された法律案は、委員会審査と本会議での審議を経て表決に付され、可決されると参議院に送付される。
4. 法律の制定に国民の意見を反映させるため、国会での法律案の審議に当たっては、一般市民の代表者や学識経験者の意見を聴取する公聴会を必ず開くことになっている。
5. 内閣に対する不信任決議案が参議院で可決され、衆議院で否決された場合には、意思の一致を図るために両院協議会が開かれる。

【No. 2】 アメリカ合衆国の統治機構に関する記述として最も妥当なのはどれか。

1. 連邦議会は、各州の人口に比例して議席が割り当てられる上院と、各州から2名ずつ選出される議員で構成される下院の二院から成る。
2. 憲法に相当する成文法がなく、多数の法律や慣例が憲法の役割を果たしており、大統領制についての明文の規定も存在しない。
3. 英国から独立して連邦制国家となった歴史的経緯から、現在でも英国の国王を国家元首としている。
4. 大統領選挙では、有権者は、直接大統領を選挙するのではなく、大統領選挙人を選挙し、この選挙人が大統領を選挙するという間接選挙の仕組みをとっている。
5. 連邦裁判所の判事は大統領から任命されるため、司法権の独立性は低く、連邦裁判所は法令や行政処分の内容が憲法に違反していないかどうかを審査する権限を有していない。

【No. 3】 完全競争市場において決まる財・サービスの価格と異なるものとして、寡占市場において企業によって決定される「管理価格」がある。これに関する説明として最も妥当なのはどれか。

1. 生産費用や市場における需要の変化に応じて価格を弾力的に変化させ、企業側が常に一定利潤を得られるように設定された価格をいう。
2. 有力な企業がプライス・リーダー(価格先導者)となって価格を設定し、他の企業がそれに追随することにより形成された価格をいう。
3. 同じ品質の商品について、外見やデザイン、宣伝などに力を入れて高級感を打ち出し、より高価に設定された価格をいう。
4. 大型量販店(ディスカウントストア)における薄利多売を前提とし、大量仕入れや徹底したコスト削減を行った上で設定された価格をいう。
5. 業界におけるシェアの拡大等を目的として、当該商品の適正な価格より著しく安く設定された価格をいう。

【No. 4】 次のA, B, Cは, 平和や人権に関する主要な宣言等の抜粋であるが, これらに該当するものの組合せとして最も妥当なのはどれか。

A: われわれは, 自明の真理として, すべての人は平等に造られ, 造物主によって, 一定の奪いがたい天賦の権利を付与され, そのなかに生命, 自由および幸福の追求の含まれることを信ずる。また, これらの権利を確保するために人類のあいだに政府が組織されたこと, そしてその正当な権力は被治者の同意に由来するものであることを信ずる。そしていかなる政治の形体といえども, もしこれらの目的を毀損するものとなった場合には, 人民はそれを改廃し, これらの安全と幸福とをもたらすべしとみとめられる主義を基礎とし, また権限の機構をもつ, 新たな政府を組織する権利を有することを信ずる。

B: 第 151 条 経済生活の秩序は, すべての者に人間たるに値する生活を保障する目的をもつ正義の原則に適合しなければならない。

第 159 条 労働条件および経済条件を維持し, かつ, 改善するための団結の自由は, 各人およびすべての職業について, 保障される。

C: 戦争は人の心の中で生まれるものであるから, 人の心の中に平和のとりでを築かなければならない。相互の風習と生活を知らないことは, 人類の歴史を通じて世界の諸人民の間に疑惑と不信をおこした共通の原因であり, この疑惑と不信のために, 諸人民の不一致があまりにもしばしば戦争となった。《中略》 政府の政治的及び経済的取極のみに基づく平和は, 世界の諸人民の, 一致した, しかも永続する誠実な支持を確保できる平和ではない。よって平和は, 失われたいためには, 人類の知的及び精神的連帯の上に築かなければならない。

A	B	C
1. アメリカ独立宣言	ユネスコ憲章	世界人権宣言
2. アメリカ独立宣言	ワイマール憲法	ユネスコ憲章
3. 世界人権宣言	アメリカ独立宣言	ユネスコ憲章
4. 世界人権宣言	ワイマール憲法	ユネスコ憲章
5. ワイマール憲法	ユネスコ憲章	世界人権宣言

【No. 5】 次のA～Dの記述のうち、孔子と孟子の思想に関するものの組合せとして最も妥当なのはどれか。

A：法と刑罰によって人民を統治する政治に反対し、君子が為政者となり、その感化によって国家に秩序と調和がもたらされるという徳治主義を主張した。

B：利他心の欠如が社会の混乱の原因であるとして、自他を区別しない兼愛のもとに人々がたがいに利益をもたらし合う平等博愛の社会をめざした。

C：自然に身をゆだね、他と争わず身を低くするようなあり方を人間生活の理想と考え、人間が自然のままに生活できる自給自足の村落共同体こそが理想社会であるとした。

D：仁義に基づいて真に民衆の幸福をはかる王道の政治を主張し、民意に背く君主は治者の地位から追放されるという易姓革命の説を唱えた。

- | | 孔子 | 孟子 |
|----|----|----|
| 1. | A | B |
| 2. | A | C |
| 3. | A | D |
| 4. | B | C |
| 5. | B | D |

【No. 6】 鎌倉から室町時代の政治に関する記述として最も妥当なのはどれか。

1. 北条泰時は、元のチンギス=ハンから服属するようたびたび求められたが、これを拒絶したため、日本は2度にわたり元軍の襲来を受けた。
2. 北朝の後醍醐天皇は、平安時代の白河上皇の院政にならい、即位後すぐに退位して上皇となり、建武の新政と呼ばれる院政を行った。
3. 足利尊氏は、南北朝を統一して幕府を開き、源頼朝以来の先例に基づいて武家法典である御成敗式目を制定した。
4. 足利義満は、將軍職を辞した後も実権をふるい、有力守護の大内義弘を討つなど、幕府の対抗勢力の排除に努めた。
5. 細川勝元は、管領として権勢をふるい、足利義教と対立した。この対立は応仁の乱に発展したが、山名氏清の仲介により戦乱は約3年で終結した。

【No. 7】 明治から昭和初期における対外関係に関する記述として最も妥当なのはどれか。

1. 明治政府は、右大臣岩倉具視を大使とし、西郷隆盛ら政府首脳に率いられた大規模な使節団を欧米諸国へ派遣した。アメリカ合衆国では、元来予定にはなかった不平等条約の改正交渉に成功した。
2. 朝鮮の内政改革をめぐる日本と清は激しく対立し、日清戦争が始まった。戦いは日本の勝利に終わり、日本全権小村寿太郎と清国全権孫文との間で、1895年に下関条約が調印された。
3. 満州における利権をめぐるロシアとの交渉は決裂し、日露戦争が始まった。戦いは日本の勝利に終わり、日本全権井上馨とロシア全権ウィットエとの間で、1905年にウィーン条約が調印された。
4. 1921年に開催されたワシントン会議において、アメリカ合衆国・英国・日本は中国との間で軍縮協定を結んで、建艦競争を終わらせ、中国の東アジアでの膨張を抑えようとした。
5. 田中義一首相は外相を兼任し、それまでの幣原喜重郎外相による協調的な外交とは異なる強硬外交を中国に対して展開し、日本人居留民の保護を名目として山東出兵を行った。

【No. 8】 キリスト教の歴史に関する記述として最も妥当なのはどれか。

1. 教皇グレゴリウス7世がドイツで贖宥状しよくゆうじょう(免罪符)を販売すると、これに反対したマルティン＝ルターは、『神曲』の中で聖書による救済を主張し、新約聖書をドイツ語に翻訳して布教に活用した。
2. スイスのジュネーブで宗教改革を進めたカルヴァンは、勤勉さを重視し、勤労の結果による蓄財を肯定した。その教えは各地に広まり、イングランドではその信徒はピューリタンと呼ばれた。
3. イギリスのチャールズ1世は、ローマ教皇から破門されたことをきっかけに国王を首長とするイギリス国教会を創立した。その後もカトリックとの宗教対立は続いたが、ヴィクトリア女王によって終止符が打たれた。
4. ドイツでは、カトリックと宗教改革によって生まれたプロテスタントが対立し、三十年戦争を引き起こしたが、ローマ教皇の発したナントの勅令によって終結し、プロテスタントの信仰が認められた。
5. イグナティウス＝ロヨラは、ニケーア公会議でイエズス会の創設を承認され、宗教改革を開始した。イエズス会はプロテスタントの勢力拡大に努め、新大陸やアジアで布教を行い、フランシスコ＝ザビエルを日本に派遣した。

【No. 9】 中国の王朝に関する記述として最も妥当なのはどれか。

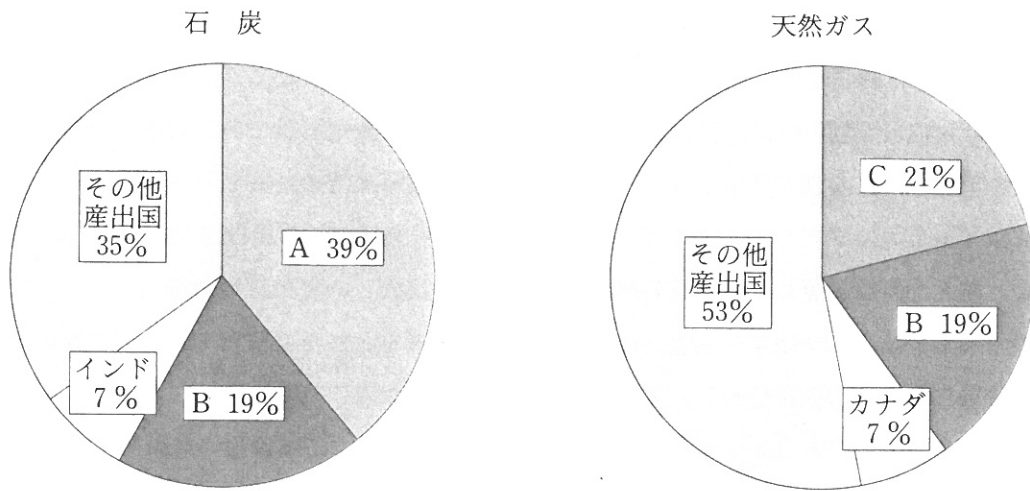
1. 秦の始皇帝は、儒家思想に基づいて、中央集権的な郡県制を整備した。また、北方の匈奴制圧を目的として、同盟を結ぶために張騫を大月氏・烏孫へ派遣した。
2. 唐の玄宗は、中国の南北を結ぶ大運河を完成させるなど国内整備に努め、その治世は貞観の治と呼ばれたが、楊貴妃の一族を重用したことなどから安史の乱が起こり、国家は衰退した。
3. 北宋の太祖(趙匡胤)は、唐代の官僚制の腐敗から、官僚登用試験である科挙を廃止し、新たに九品中正と呼ばれる官僚登用制度を定めるなど内政の改革に努めた。
4. モンゴル帝国のフビライ=ハンは、南宋を滅ぼし国号を元とした後は、中央行政機関にモンゴル人と漢人を同数配置し、漢語を公用語にするなど漢民族との宥和政策に努めた。
5. 明の永楽帝は、都を南京から北京に移し、対外積極策をとった。宦官を政治の要職に用い、鄭和を派遣して南海遠征を行わせ、多くの国に朝貢を求めた。

【No. 10】 アジア各国の民族・宗教・言語に関するA～Dの記述のうち、妥当なもののみを挙げているのはどれか。

- A：インドネシアには多様な民族が住んでいるが、国民の過半数が仏教徒である。また、オランダ語が公用語となっている。
- B：シンガポールでは、中国系住民が人口の過半数を占め、他にマレー系、インド系の住民がいる。英語、中国語など複数の言語が公用語となっている。
- C：ベトナムでは、スペインの植民地であった影響から、カトリック教徒が人口の過半数を占めている。また、スペイン語とベトナム語が公用語となっている。
- D：タイでは、大多数がタイ族であり、他に中国系、マレー系、山岳少数民族がいる。また、仏教徒が大半を占める仏教国である。

1. A, B
2. A, C
3. A, D
4. B, C
5. B, D

【No. 11】 次の円グラフは、2006年における石炭と天然ガスの産出国及び生産割合を表したものであるが、A、B、Cに当てはまる国名の組合せとして最も妥当なのはどれか。



- | A | B | C |
|------------|---------|---------|
| 1. アメリカ合衆国 | 中国 | ロシア |
| 2. アメリカ合衆国 | ロシア | 中国 |
| 3. 中国 | アメリカ合衆国 | ロシア |
| 4. 中国 | ロシア | アメリカ合衆国 |
| 5. ロシア | 中国 | アメリカ合衆国 |

【No. 12】 次のA, B, Cの記述に当てはまる芸能として最も妥当なのはどれか。

A：筋のある滑稽なはなし噺を登場人物の会話のやりとりを中心として進め、「おち」をつけて聞き手を楽しませる話芸。江戸系と上方系とがあり、同じ話でも演出が異なったりする。制作年代によって古典・新作に分けられ、滑稽噺のほかに人情噺、芝居噺などがある。

B：滑稽な物真似から発展した科白劇せりふ。室町時代に主要な芸能となり、江戸初期に大蔵流、鷺流、和泉流が確立した。口語(話し言葉)を使った対話喜劇で、当時の庶民生活が反映されている。

C：三味線伴奏で語る義太夫節などの浄瑠璃に合わせて人形を遣う人形劇。室町時代に起こった浄瑠璃が、やがて三味線を伴奏として人形芝居と結び付き、この芸能が成立した。そして、明治末期頃からこの名で呼ばれるようになった。

	A	B	C
1.	落語	歌舞伎	能
2.	落語	狂言	能
3.	落語	狂言	文楽
4.	講談	歌舞伎	能
5.	講談	狂言	文楽

【No. 13】 次の下線を付した熟語のうち、漢字の使い方が妥当なもののみを挙げているのはどれか。

A：上半期の人事評価において、彼女の功績は正当に評価された。

B：台風の影響による大雨で、近所の堤防が決壊した。

C：私の父は、今でも、古くからの習慣を墨守している。

D：彼の意見は、遠曲な表現ではあるが、鋭い指摘であることは確かだ。

1. A, B
2. A, C
3. A, D
4. B, C
5. B, D

【No. 14】 四字熟語のうち、意味が近いものどうしを組み合わせているものとして最も妥当なのはどれか。

1. 朝三暮四 — 朝令暮改
ちようさん ぼ し ちようれい ぼ かい
2. 一知半解 — 一進一退
いっ ち はん かい いっ しん いっ たい
3. 四面楚歌 — 唯我独尊
し めん そ か ゆい が どく さん
4. 虎視眈眈 — 单刀直入
こ し たん たん たん とう ちよくにゅう
5. 空前絶後 — 前代未聞
くうぜん ぜつ ご ぜん だい み もん

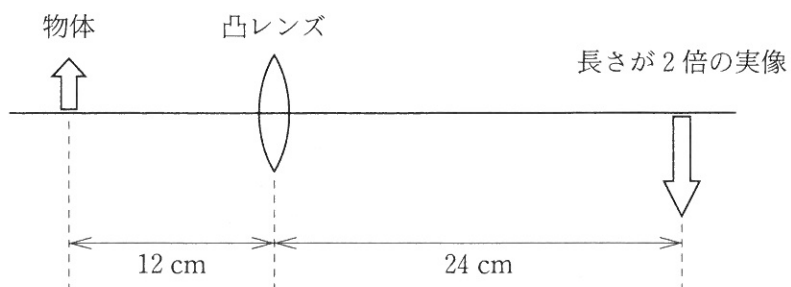
【No. 15】 $x = \sqrt{6} + \sqrt{5}$ のとき、 $x + \frac{1}{x}$ の値はいくらか。

1. $2\sqrt{6}$
2. $2\sqrt{15}$
3. $2\sqrt{30}$
4. $3\sqrt{15}$
5. $3\sqrt{30}$

【No. 16】 a を定数とする2次関数 $y = x^2 - 2x + a$ の定義域が $-1 \leq x \leq 4$ のとき、その最小値は3であるという。このとき、この2次関数の最大値はいくらか。

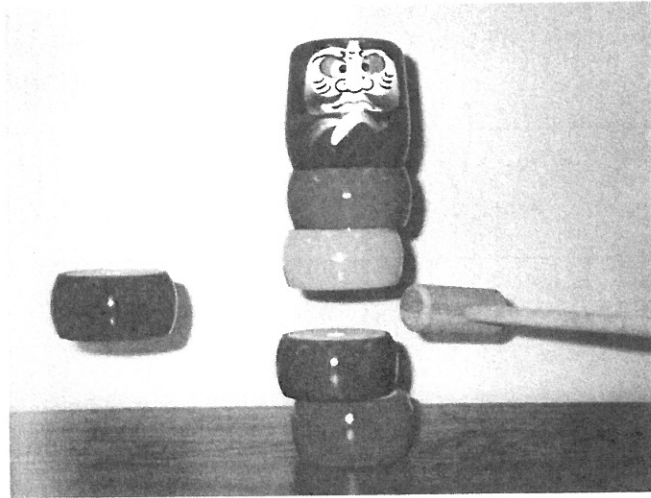
1. 8
2. 9
3. 10
4. 11
5. 12

【No. 17】 図のように、凸レンズの中心から前方 12 cm の位置に、ある物体を置いたところ、凸レンズの中心から後方 24 cm の位置に、その物体の長さが 2 倍の実像が現れた。この凸レンズの焦点距離はいくらか。



1. 4 cm
2. 6 cm
3. 8 cm
4. 10 cm
5. 12 cm

【No. 18】 図は、「^{だるま}達磨落とし」の積み木の一つが木づちで打たれて飛び出した瞬間を写したものである。飛び出した積み木より上にあつた積み木は、何事もなかったかのように静止している。このような現象と同じ原理で説明できる現象として最も妥当なのはどれか。



1. バスが急発進すると、中に立っていた乗客が後ろに倒れそうになったり、逆に急停止すると、前に倒れそうになったりする。
2. 信号待ちで停止した自転車を発進させるためには、走行中よりも大きな力でペダルを踏まなければならない。
3. 水泳競技で、各選手は、折り返すときにプールの壁を強く蹴っている。
4. 平らな板の上に本を載せ、その板を徐々に傾けていくと、板がある角度になったとき、本は滑り落ち始める。
5. ウールの布で摩擦したアクリルの下敷きに、小さく切った紙片を近づけると、紙片が引き寄せられる。

【No. 19】 次の化学反応式㉞，㉟，㊱で示される反応の種類^①の組合せとして最も妥当なのはどれか。



㉞	㉟	㊱
1. 中和反応	中和反応	中和反応
2. 中和反応	中和反応	酸化還元反応
3. 中和反応	酸化還元反応	酸化還元反応
4. 酸化還元反応	中和反応	中和反応
5. 酸化還元反応	酸化還元反応	中和反応

【No. 20】 原子間やイオン間の結合に関する記述として最も妥当なのはどれか。

1. ナトリウム、カリウムなどのアルカリ金属元素の原子は、イオン化エネルギーが大きいため、陽イオンになりやすい。
2. イオン結合でできている結晶をイオン結晶という。イオン結晶は硬くて融点が高いため、その多くは水に溶けにくい。
3. 金属は、隣接した原子どうしの電子が対になることにより強く結合しており、共有結合の結晶に比べ、展性や延性が小さく、硬い。
4. アンモニア分子など分子として電気的な偏りのないものを無極性分子という。この分子間には弱い引力が働くが、分子量が大きくなるほど引力は小さくなる。
5. 水は、水分子どうしが水素結合により結合しているため、分子量が同じ程度のメタンに比べて、融点、沸点が高い。

【No. 21】 次は、人体の血糖濃度の調節に関する記述であるが、A～Dに当てはまるものの組合せとして最も妥当なのはどれか。

食事の後には血糖濃度が一時的に上昇する。この血液がすい臓を流れると、すい臓のランゲルハンス島のB細胞から **A** が分泌される。また、血糖濃度の上昇は **B** でも感知され、副交感神経がすい臓にはたらいて **A** の分泌を促す。この結果、血糖濃度は低下し、通常の数値に戻る。

A の分泌量が慢性的に不足したりすると、細胞内にグルコースが十分取り込まれなくなり、また、肝臓でグルコースを **C** に変えて貯蔵することができなくなる。このため血糖濃度が異常に上昇し、**D** の再吸収能力を超えると、尿中にグルコースが排出される。これは糖尿病の病態の一つである。

	A	B	C	D
1.	グルカゴン	脳下垂体	グリコーゲン	腎臓
2.	グルカゴン	視床下部	タンパク質	小腸
3.	インスリン	脳下垂体	タンパク質	腎臓
4.	インスリン	視床下部	グリコーゲン	腎臓
5.	インスリン	視床下部	タンパク質	小腸

【No. 22】 次は、生物の進化に関する記述であるが、A～Dに当てはまるものの組合せとして最も妥当なのはどれか。

生物は進化の過程で次第に複雑で多様なものへと進化してきた。古生代のオルドビス紀まではすべての生物が海に生息していた。しかし大気中に **A** が形成されたことによって生物は陸上にも進出を始めた。**B** には、ロボク、リンボクなどの巨大な **C** 植物が大森林を形成した。中生代にはイチョウやソテツなどの **D** 植物が繁栄した。

	A	B	C	D
1.	オゾン層	石炭紀	シダ	裸子
2.	オゾン層	石炭紀	裸子	シダ
3.	オゾン層	カンブリア紀	裸子	シダ
4.	電離層	石炭紀	裸子	シダ
5.	電離層	カンブリア紀	シダ	裸子

【No. 23】 次の文の内容と合致するものとして最も妥当なのはどれか。

The story of the American people is a story of immigration and diversity. The United States has welcomed more immigrants than any other country — more than 50 million in all — and still admits almost 700,000 persons a year. In the past many American writers emphasized the idea of the melting pot*, an image that suggested newcomers would discard their old customs and adopt American ways. Typically, for example, the children of immigrants learned English but not their parents' first language. Recently, however, Americans have placed greater value on diversity, ethnic groups have renewed and celebrated their heritage, and the children of immigrants often grow up being bilingual.

The steady stream of people coming to America's shores has had a profound effect on the American character. It takes courage and flexibility to leave your homeland and come to a new country. The American people have been noted for their willingness to take risks and try new things, for their independence and optimism.

(注) * melting pot : (人種と文化の) るつぽ

1. アメリカが受け入れてきた移民の数は世界中で最も多く、今でも毎年約 50 万人を受け入れている。
2. アメリカの作家には、故国の慣習を嫌い、多様性を認めるアメリカに移住した人が多い。
3. 近年、アメリカでは多様性が重視され、移民の子どもたちは故国の言語と英語の両方で育つことが珍しくない。
4. アメリカ人の勇敢で柔軟な国民性にあこがれて、アメリカに渡ってくる移民が多い。
5. アメリカでは、進んで新しいことに挑戦し、リスクを引き受けることが独立した大人の証しとみなされている。

【No. 24】 次の文の内容と合致するものとして最も妥当なのはどれか。

Dogs are helping us out in more ways than ever. Dogs help police and rescuers find people trapped inside buildings after major earthquakes. Dogs provide companionship to the lonely or the elderly. They also assist the hearing impaired and the blind. And most of all, they're great friends for people of all ages.

The friendship of dogs and man is as old as time. No one really knows, though, how the relationship came about, but it's one that's always been particularly moving to me. Take, for example, the remains of a boy and his dog unearthed by archaeologists*¹ from the ruins of Pompeii. The dog seems to be pulling on the boy's clothes, as if trying to save him.

Dogs have always helped man, and sometimes I can't help thinking we're not really returning the favor. Just look at the dogs-to-dolls trend going on nowadays, where our four-legged friends are becoming more like accessories than companions. 《中略》

Recently, my eyes fell on a poor puppy that was in a state of major distress. A lady was trying her best to squeeze it into a tiny sweater. The poor dog was whining*² and scratching as it tried to stay out of the rainbow-colored straitjacket.

I couldn't help but think, dogs don't ask us to wear tails so why do we make them wear our clothes. I mean, we already demand that they live in our houses and eat our food. It seems odd to me that you can dress a dog to look like its master, but there aren't any fashion goods to help masters look like their dogs!

(注) *¹ archaeologist：考古学者 *² whine：哀れっぽい声を出す

1. 犬と人間との友情は、つきあう年数を重ねるに従って深まっていくものである。
2. 古来より犬に衣服を着せていたことを、考古学者がポンペイの遺跡発掘で発見した。
3. 犬は人間に貢献してきているが、人間は必ずしもそれに報いていない。
4. 最近、子犬を無理にしつけようとしている女性を目撃したが、その犬は苦しそうにしていた。
5. 犬に人間の食事を与え、衣服で保護することは、むしろ彼らの健康を損ねることになる。

【No. 25】 次の文において、主人公が「学んだこと」として最も妥当なのはどれか。

Rose has been an artist for many years. In her spare time she would paint beautiful watercolor landscapes. From time to time, she would display her work in the local art show or have some of her pieces shown in a small art shop and gallery. Whenever her family asked her about her art, their question was either “Did you sell anything?” or “How much did you make?” Rose felt like this wonderful form of expression, this way of being herself that was so important to her, was completely misunderstood. She wasn’t trying to make money, she didn’t care if it sold. She painted for herself, not for profit. Every time she was asked whether she made any money, she would churn* inside.

Why don’t they understand me? Rose wondered. Why do these people, who should be so close to me, seem so distant and removed? These thoughts grew inside of her and caused her to become less comfortable around her family. Then Rose realized that her family couldn’t read her mind and that part of the reason they didn’t understand her was that she hadn’t explained what was really important to her.

(注) * churn : (心の中が) 激しく揺れ動く

1. 何ごとも良い結果を出さなければ、他人に認めてもらうことは難しい。
2. 自分の好きなことを貫こうと思えば、犠牲にしなければならないこともある。
3. 何が大切であるかの価値判断は人それぞれであり、他人の意見を気にしすぎる必要はない。
4. 近くの家族よりも遠くの友人の方が本当の自分を分かってくれることがある。
5. 自分を理解してもらうためには、自分の気持ちを説明しなければならない。

【No. 26】 次の文の内容と合致するものとして最も妥当なのはどれか。

過去・現在・未来に相わたる自分と向き合い、みずから自分の職種や職場を決定したからといって、その決断がいい結果を——たとえば、将来のしあわせとか生活の安定とかを——もたらさかどうかは、また別の問題である。十代や二十代の若者の経験や知識や観察眼を考えれば、決断が不合理な面や非現実的な要素をふくむことは十分に考えられる。なかには、不幸や不安定の生活しかもたらさない大失敗の決断もあっておかしくはない。当人もやがて失敗に気づき、その職場を去って、あらたな職の選択に向かうこともある。

が、決断が不幸や不安定しかもたらさなかったとしても、あるいは、当人までがその失敗を認めざるをえない決断だったとしても、職を選ぶに当たって自分と真剣に向き合い、みずから決断を下すという試みは、人間的に価値のあるものであることに変わりがない。不幸や不安定や失敗を避けるために、自分を放棄し、他人の、あるいは、なんらかの権威の、いいなりになるわけにはいかない。人生のさまざまな局面で自分をつらぬくことのほうが、不幸や不安定や失敗を避けることよりも、根本的な事柄なのだ。

あるいは、こういってもよい。自分と向き合い、自分の生きかたをみずから模索する営みのなかで、生活の不幸や不安定や失敗が相対化される、と。社会通念として不幸、不安定、失敗と見なされる職選びや職業生活はたしかにあり、そう見なされることにはそれなりの現実的な根拠がある。が、自分と真剣に向き合い、みずから主体的に職を選んだものにとって、社会通念上の不幸や失敗はそのままおのれの不幸であり、失敗であるわけではない。自分の生きかたを自分で選びとるとき、不幸や失敗についても、自分にとってなにが不幸であり、なにが失敗であるかを問い直さざるをえないのだ。不幸や失敗は、そのように、自分の生きかたをみずから決定する当人の主体性によって相対化される。主体的な生きかたは不幸や失敗を超えて進む力をもつのだ。職業生活の不幸や失敗が、いま携わる職業を放棄させ、あらたな職選びへと向かわせることはよくあるが、あらためて職選びへと向かう意識は、ここでもまた、自分と向き合い、自分の生きかたをみずから決定する姿勢を保持しなければならない。そうすることによって、はじめて、自分の経験した不幸や失敗を生かすことができる。

1. 職を主体的に選ぶことにより社会通念が分かるようになり、その職を放棄することとなっても新たな職選びにいかすことができる。
2. 生き方を模索する人は、自分と向き合い、自分の生活の不幸や失敗を他人のそれと相対化することにより、社会通念にのっとった判断ができる。
3. 主体的に職を選んだ場合、たとえその結果が社会通念上は不幸や失敗であったとしても、その者自身にとってそうであるとは限らない。
4. 権威や他人の勧めに従って職を選んだ場合、たとえそれが社会通念上は成功とみなされるようなものであっても、本人にとっての成功ではない。
5. 自ら主体的に職を選ぶことは人にとって根本的なことであり、その際、失敗や不幸に陥る可能性を考慮すべきではない。

【No. 27】 次の文の内容と合致するものとして最も妥当なのはどれか。

物語の特性のなかで、まず強調したいのは、その「関係づける」はたらきであろう。あるいは、何かを「関係づける」意図から物語が生まれてくる、と言ってもよい。

非常に単純な例を考えてみよう。コップに野草の花がひとつ挿してある。それだけのことなら、別に誰もその花に注目しないかも知れない。しかし、それは病気で寝ている母親を慰めようとして十歳の少女が下校のとき摘んできたのだと知ると、その花が単なる花でなくなってくる。その花を介して、その少女に親しみを感じ、その母娘の間の感情がこちらに伝わってくる。そこに「関係づけ」ができてくる。そのことに感激すると、そのことを誰かに話をしたくなる。《中略》

物語を語ることによって、母娘の関係の在り方がわかり、それに感動することによって、語り手と聞き手との間に関係が生まれ、このように「関係の輪」が広がっていくところに意味がある。かかわりのなかの真実が、それによって伝わっていく。

物語の本質については、よく知られているように紫式部が、既に『源氏物語』のなかで、千年近くも以前に論じているのは大したものである。「螢」の巻で、光源氏は最初は「物語には本当のことは語られることが少ない」というように低い評価をするが、そのうちに、物語こそ単なる事実を述べているものよりも、真実を伝えるものだと言う。《中略》

このように高い評価を得ていた物語が急速に価値を失うのは、近代になってからであろう。それには自然科学の果たした役割が大きい。自然科学は外的事実の間の「関係」、特にその「因果関係」を見出すことに努力するが、そのような外的事実を、観察者(研究者)とは関係のないものとするのが前提となっている。このために、そこに見出されたものは個人を超える普遍性をもっている。この「普遍性」ということが実に強力である。つまり自然科学によって見出された結果と技術とがうまく結合すると、人間は事象の「外側に」立って、それをコントロールし、操作できる立場を獲得する。この方法があまりにも効果的であるために、人間は科学の知によってすべてのことが可能になると思ったり、科学の知こそが唯一の真理である、とするような思い違いをしたのではなからうか。

このような思い違いをすることによって、多くの現代人はこの世との「関係」を切断され、根無し草のようになってしまった。便利で能率よく生活することが可能になったが、いったい何のために生きているのか、その意味が急に稀薄に感じられるようになったのである。「意味」とは、関係の在り方の総体のようなものである。私と私を取り巻く世界との関係がどんなものかがわからずに生きていても、「意味」が感じられないのも当然である。

1. 物語は、登場人物間の関係を伝えるだけでなく、語り手と聞き手との関係を生む。
2. 語り手は、物語を通じて、外的事実だけでなく、物語全体に通底する真実を伝えようとする。
3. 自然科学は、外的事実と観察者との間の因果関係を重視することで、普遍性を獲得した。
4. 科学によって事象を操作する立場になった人間は、真理をも操作できるようになった。
5. 物語が急速に価値を失ったことで、科学のもつ普遍性が重視されるようになった。

【No. 28】 次の文中の「自己認識に優れた人」がとると考えられる行動例として最も妥当なのはどれか。

自己認識とは、自分の感情、長所、短所、欲求、衝動を深く理解することである。自己認識の能力が高い人は、必要以上に深刻になることもなければ、楽観的になりすぎることもない。彼らは自分自身に対しても他者に対しても正直である。

自己認識に優れた人は、自分の感情が自分自身、他者、自分の仕事の結果にどう影響するかを認識している。

たとえば、自己認識に優れた人物は、厳しい日程で仕事をすると自分が最低の業績しか出せないことを知っているから、入念な計画を立て、期日以前に十分な余裕をもって仕事を完了することができる。

あるいは、要求の厳しい顧客とも上手につき合うことができる。それは、顧客が自分の気分に与える影響も、自分がイライラを感じる根本的な原因も理解できるからだろう。

「お客が取るに足らない要求をしてくるので、本来やらなければならない作業に手が回らなくなってしまった」と分析し、一步先に進んで、自分の憤懣^{ひんまん}を建設的なことがらに転換していくのである。

自己認識ができれば、自分自身の価値観や目標が理解できる。自己認識に非常に優れた人は、自分が何を目標にしているのか、なぜ目標にしているのかを理解していて、たとえば、報酬面では魅力的だが自分の主義や長期目標には合わない職につかないかと誘われても、迷わずに断れるだろう。

ところが、自己認識に欠ける人は、自分の本当の価値観に目をつぶり、心の動揺に引きずられた決定を下しがちである。

「報酬がよさそうだから、やってみようか」と判断するのだが、二年後には、「こんな仕事をやっても自分には意味がない、退屈で仕方がない」と思うはめに陥るだろう。自己認識のできる人の意思決定は、その人の価値観とかみ合っている。そのため、このタイプの人には、仕事を活力源と考えることができる。

1. 職業を選択するとき、仕事の中身ややりがい、自分の生活スタイルなどを優先したいと考えていたが、まずは給料で就職先を決定した。
2. 新しい上司との面談で、これまでの仕事でうまくいかなかったことがあるかと聞かれたとき、失敗談を披露すると自分の評価が低くなると考え、失敗はないと答えた。
3. 自分の能力を高めたいという意欲から、力量以上の業務をすすんで引き受け、その出来栄にかかわらず自分が最大限努力したことに満足した。
4. 担当したかったプロジェクトの主要メンバーに選ばれず、不満や怒りを感じたが、選ばれなかった理由を考えて気持ちの整理をし、プロジェクトの導入作業に協力した。
5. 重要な会議に出席したとき、議論を進展させる建設的なアイデアを持っていたが、他のメンバーが全員目上であることに遠慮し、提案することを差し控えた。

【No. 29】 次の と の文の間に、A～Eを並べ替えて続けると意味の通った文章になるが、その順序として最も妥当なのはどれか。

何ごとによらず比較することを、いつもやめようと思いつながら、それができない。

A：比較というのは本来モノとモノのあいだでおこなうものであって、ヒトとヒトのあいだではおこなうべきではない、と私は思ってきた。

B：ところが、自分と他人をひとたび比較しはじめると、そのとたんに嫉妬^{しつと}が芽生え、不幸への転落がはじまる。ヒトとヒトを比較することの不幸と絶望が出現する。そしてそのことを誰でも心の中で感じているから、なお始末が悪い。

C：人間には一人ひとりに独自の個性があつて、それはモノの価値をはかるように比較できるものではないからである。

D：朝起きてから夜寝るまで、瞬時もやすまず自分と他人を比較しているからだ。性格について、才能について、運命について、健康について比較することをやめない。幸福について、不幸について、他人の背中を見ながら、他人の影を感じながら、比較しないではいられない。

E：しかしそうは思いつながら、なかなか実行することができない。リクツはわかつていても、いつも行動がともなわない。

結局、この比較地獄のなかをもちがきながら生きていくほかはない。

1. A→C→E→D→B
2. C→A→B→D→E
3. C→D→A→E→B
4. E→B→A→C→D
5. E→D→C→B→A

【No. 30】 次の文の には、同じ語句が入るが、当てはまるものとして最も妥当なのはどれか。

「人はなぜ絵を見に行くのか」ということについて、思い当たることがあります。

例えばヨーロッパを旅し、山や川といった自然を見て歩いて、バスで一日中走っても、美術館の中ほどの はありませんでした。わたしはAという先輩とイギリスを旅し、朝別れて夜は夕ご飯をいっしょにし、その日に見てきたことを自慢しあったことがあります。Aは、本屋で見たいろいろな本のこと、美術館で見た印象的な絵の話などをしました。その話が上手ということもありますが、それに比べて、わたしは一日中風景の中において、自然の美しさを堪能していたものですから、見たものを挙げよといわれても、山、花、木、人々、というだけでおしまいなのです。二人とも目を開けていたし、ものを見た時間は同じ長さなのに、Aの見たものの方が が高いと思いました。わたしはスケッチブックを持って行ってスケッチをしてくればよかったのですが、そのときは持っていなくてただ風景を見るだけでした。

そんなこともあって、美術館へ行くことが多くなりました。ところで、風景もさることながら、美術館のほうが「 が高い」と感じるのは、何故でしょう。

思うに、昔の絵は長い時間をかけて描いたものばかりです。その絵には、絵が描かれていたときの、時計で計ることのできない時間(思索)があり、絵ができあがってから、こんどは時計で計る意味の時間(歴史)が、ほこりのように降り積もっていると思うことができます。絵を見る人がその時間を共有するのだとしたら、 は限りなく高いことになります。

1. 開放感
2. 精 度
3. 抽象度
4. 透明感
5. 密 度

【No. 31】 次の詩の作者が傍線部分で例えたものとして最も妥当なのはどれか。

低^た頭^レ 思^フ 故^ニ 郷^ヲ
擧^あ頭^ゲ 望^テ 山^コ 月^ウ
疑^フ是^ラ地^ク上^ハ 霜^レ
牀^{*}前^ニ看^ル 月^ニ光^ヲ

静
夜
思

* 牀：寝台

1. 静かな湖の水面に映っている三日月
2. 室内に差し込んでいる月の光
3. 庭一面に咲いている白い花
4. 山中の厳しい寒さ
5. 故郷を離れた後、髪の毛が白くなるほど経過した長い年月

【No. 32】 最近読んだ小説について仲間内で話し合ったところ、次のことが分かった。これから確実にいえるのはどれか。

- 歴史小説を読んだ者は、推理小説を読んだ。
- 歴史小説を読まなかった者は、恋愛小説を読まなかった。
- 社会小説を読んだ者は、恋愛小説を読んだ。

1. 歴史小説を読まなかった者は、推理小説を読まなかった。
2. 恋愛小説を読んだ者は、社会小説を読んだ。
3. 推理小説を読まなかった者は、恋愛小説を読まなかった。
4. 社会小説を読まなかった者は、歴史小説を読んだ。
5. 推理小説を読んだ者は、社会小説を読んだ。

【No. 33】 横一列に並んだ五つの椅子に、男性3人、女性2人からなるA～Eの5人の学生が座っている。この5人について、次のことが分かっているとき、確実にいえるのはどれか。

ただし、左右については、5人を正面から見た場合の位置関係を指している。

- かさを持っているのは男女1人ずつであり、その2人の中には女子学生1人だけがいる。
- 男子学生であるAのすぐ左隣には、女子学生がいる。
- Cのすぐ右隣には、女子学生がいる。
- Dから1人おいて右には、かさを持った男子学生がいる。
- 男子学生であるEのすぐ左隣の学生は、かさを持っている。

1. Aのすぐ左隣にはDがいる。
2. Bは、5人のちょうど真ん中にいる。
3. Cは、左端から2番目にいる。
4. Dは、男子学生である。
5. Eのすぐ右隣にはBがいる。

【No. 34】 A, B, Cの3人は、それぞれP町かQ町に住んでおり、次のように話した。

A：「私とBは、同じ町に住んでいる。」

B：「私もCも、P町に住んでいる。」

C：「AもBも、私と違う町に住んでいる。」

ところが、このうち1人が、自分以外の2人の名前を取り違えて話していたことが分かった。このとき、A, B, Cのそれぞれが住んでいる町の組合せとして最も妥当なのはどれか。

- | | A | B | C |
|----|----|----|----|
| 1. | P町 | P町 | Q町 |
| 2. | P町 | Q町 | Q町 |
| 3. | Q町 | P町 | Q町 |
| 4. | Q町 | P町 | P町 |
| 5. | Q町 | Q町 | P町 |

【No. 35】 A～Nの14チームがある球技の総当たり戦を行っている。1試合ごとに勝敗ポイントが与えられるが、そのポイント数は勝ちが3，引き分けが1，負けが0である。全チームが最終1試合を残すのみとなったときの上位7チームの勝敗ポイント及び得失点差*が次のように示されるとき、確実にいえるのはどれか。

ただし、順位は、勝敗ポイントの多い順に決まり、勝敗ポイントが並んだ場合は得失点差の多い方が上位となるが、さらに得失点差が同じ場合は同順位となる。

(注) * 得失点差 = 総得点 - 総失点

チーム	勝敗ポイント	得失点差
A	30	+20
B	28	+19
C	25	+17
D	22	+17
E	21	+7
F	19	+4
G	17	+5

1. Aは、最終試合で負けさえしなければ、優勝できる。
2. Bは、最終試合で引き分ければ、2位が確定する。
3. Dは、最終試合でCと対戦して勝たなければ、3位になることはない。
4. Eは、最終試合で負けると、6位以下になる。
5. Fは、最終試合で負けても、8位以下になることはない。

【No. 36】 A, B, Cの3人がいる。このうちAとBの2人がじゃんけんを行い、1回ごとのじゃんけんの結果に従って、次のように1個の風船をやりとりしていくこととした。

- Aが勝った場合：Aが風船を持っていれば、Bに渡す。
- Bが勝った場合：Bが風船を持っていれば、Cに渡す。
- 引き分けの場合：Cが風船を持っていれば、Aに渡す。

はじめに風船を持っているのがAであるとき、じゃんけん及び風船のやりとりを2回終えた時点の状況に関する記述として最も妥当なのはどれか。

ただし、じゃんけんの勝ち、負け、引き分けはそれぞれ等しい確率で生ずるものとする。

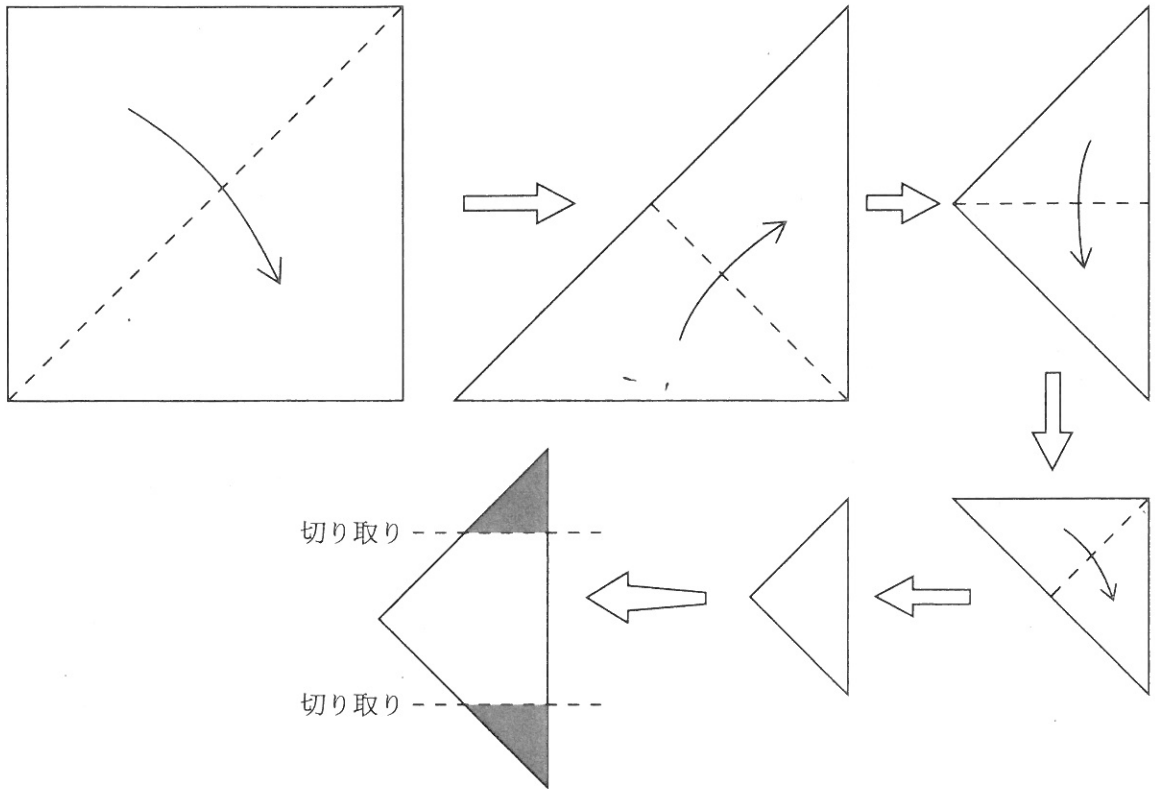
1. Aが風船を持っている確率は、Bよりも大きい。
2. Cが風船を持っていることはない。
3. Bが風船を持っている確率は $\frac{1}{3}$ である。
4. AかBのどちらかが風船を持っている確率は $\frac{2}{3}$ である。
5. Cが風船を持っている確率は $\frac{1}{9}$ である。

【No. 37】 A～Eの5人の選手が、それぞれ赤、青、黄、緑、黒の異なる色のゼッケンを着け、長距離走を行った。次のことが分かっているとき、確実にいえるのはどれか。

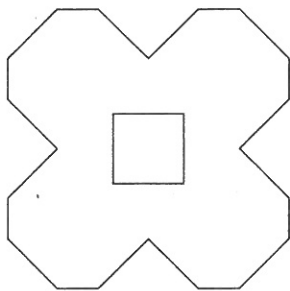
- 青のゼッケンの選手がゴールした後、1人おいてからAがゴールした。
- Bは、赤のゼッケンの選手よりも先にゴールした。
- Cは、Eよりも先にゴールした。
- Dがゴールした後、3人おいてから緑のゼッケンの選手がゴールした。
- 黒のゼッケンの選手は、4番目にゴールした。

1. 最初にゴールした選手は、青のゼッケンを着けていた。
2. Aは、4番目にゴールした。
3. 黄のゼッケンの選手の次に、赤のゼッケンの選手がゴールした。
4. Cは、黒のゼッケンの選手よりも先にゴールした。
5. Eは、緑のゼッケンを着けていた。

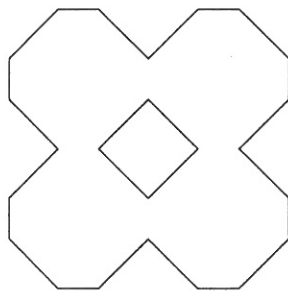
【No. 38】 図のように、正方形の紙を点線部分で4回折り、できた三角形の網掛け部分を切り取って除いた。残った部分を開いたときの形として最も妥当なのはどれか。



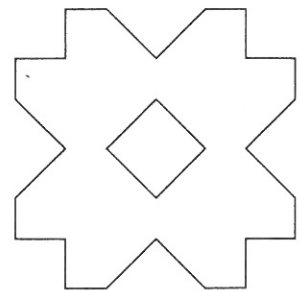
1.



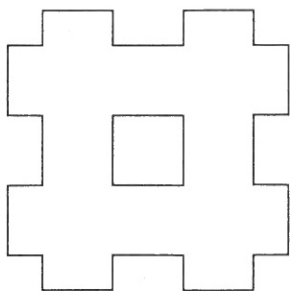
2.



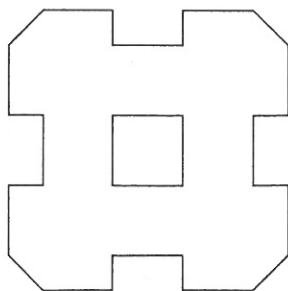
3.



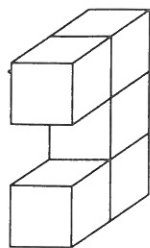
4.



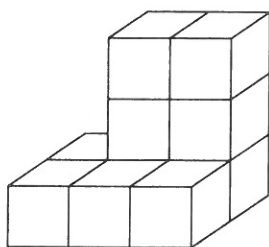
5.



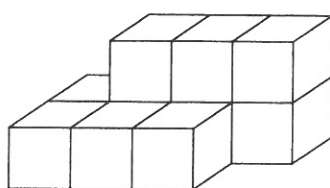
【No. 39】 図のように、立方体を5個組み合わせて固定した立体がある。A～Eのうち、この立体を二つ組み合わせて作れないもののみを挙げているのはどれか。



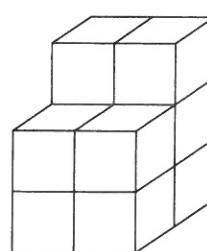
A



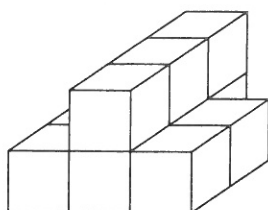
B



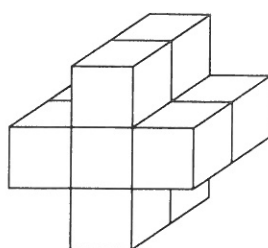
C



D



E



1. A, C
2. A, D
3. B, D
4. B, E
5. C, E

【No. 40】 ある朝、起きてみると屋根に雪が積もっており、雪はさらに一定の割合で積もっていった。ある時点から雪下ろしの作業を始めたとする、4人で20分かかり、5人では12分かかるといふ。同じ時点から作業を始めた場合、10人では何分かかかるか。

ただし、各人の時間当たりの作業量は等しく、変化しないものとする。

1. 4分
2. $\frac{9}{2}$ 分
3. 5分
4. $\frac{11}{2}$ 分
5. 6分

【No. 41】 航空機で、赤道に沿って高度1万mの上空を飛行し、地球を1周したとき、飛行距離は地球の周囲よりもおよそ何km長くなるか。

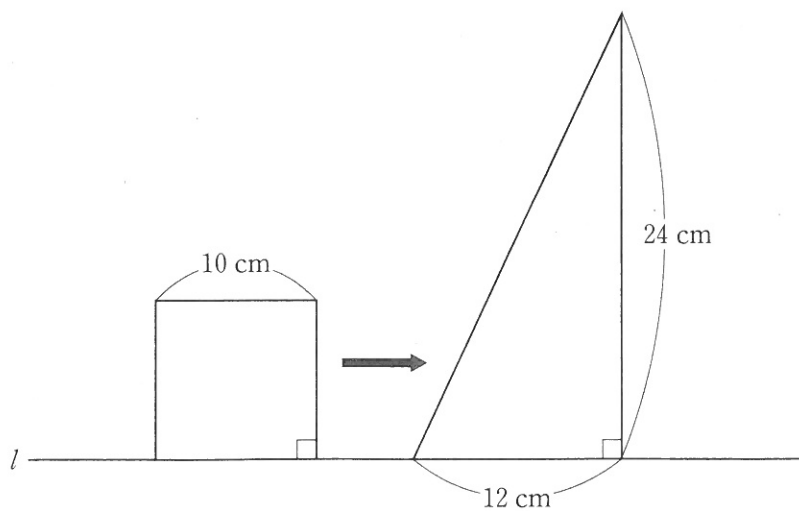
ただし、地球は完全な球形とする。また、地球の周囲は4万km、円周率は3.14とする。

1. 32 km
2. 63 km
3. 130 km
4. 13,000 km
5. 41,000 km

【No. 42】 ある電車は、長さ 600 m のトンネルを一定の速さで通過するとき、その最前部がトンネルに入ってから、最後部がトンネルに入るまでに 10 秒かかる。また、その最前部がトンネルに入ってから、最後部がトンネルから出るまでに 50 秒かかる。この電車の長さはいくらか。

1. 100 m
2. 120 m
3. 130 m
4. 150 m
5. 180 m

【No. 43】 図のように、直線 l 上を正方形が右方向へ移動しながら直角三角形上に重なっていき、さらに通り過ぎていくとき、重なり合う部分の面積は変化するが、その最大値はいくらか。



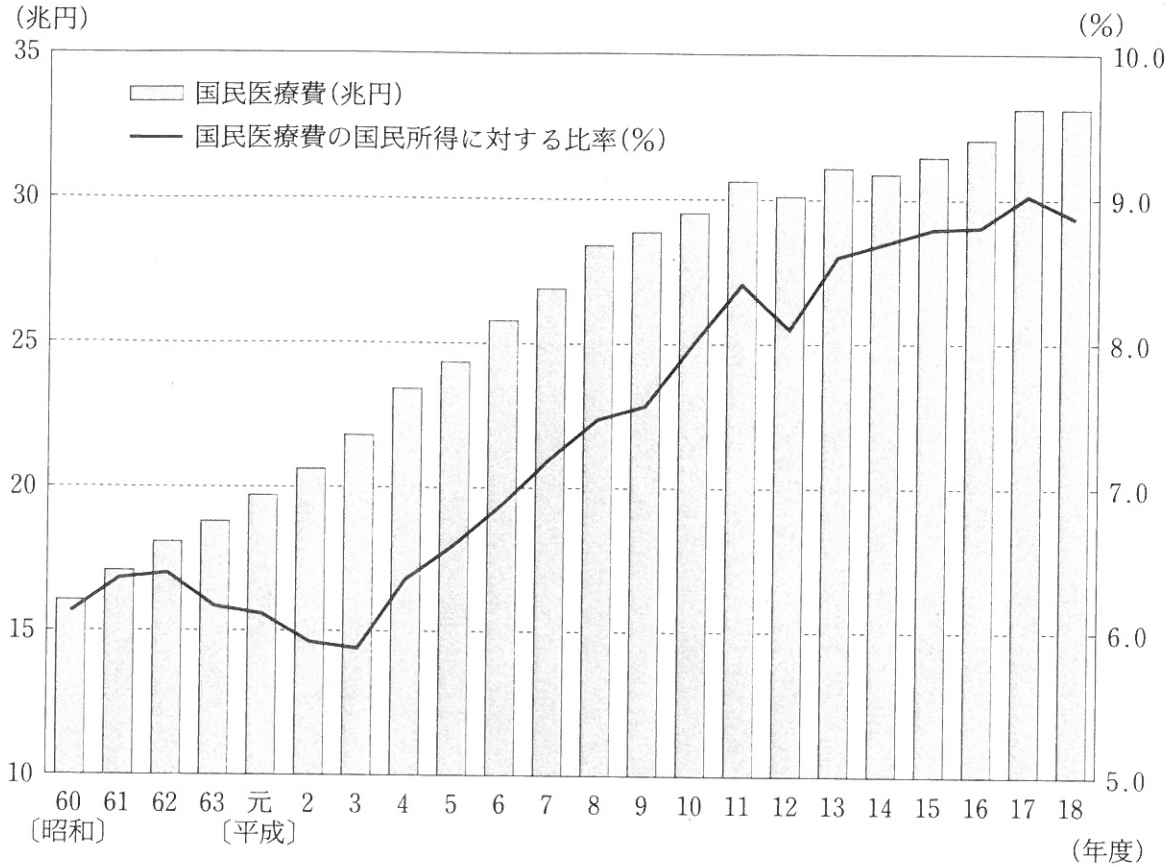
1. 70 cm^2
2. 75 cm^2
3. 81 cm^2
4. 91 cm^2
5. 96 cm^2

【No. 44】 表は、ある学級の 40 人について、英単語小テストと古文小テストの得点結果を相関表にしたものである。これから確実にいえるのはどれか。

英単語小テスト	(点)											
	10										1	
	9										1	
	8				1			2		1		
	7				1	3	2	1				
	6				3	5	2	1				
	5				1	2	2		1			
	4				1	1	2		1			
	3				2			2				
	2			1								
	1											
0												
		0	1	2	3	4	5	6	7	8	9	10 (点)
		古文小テスト										

1. 二つのテストの合計点が最も高い人と最も低い人の合計点の差は、16点である。
2. 古文小テストが8点以上の人の英単語小テストの平均点は、9.0点である。
3. 英単語小テストの方が古文小テストより高い得点の人の方が、その逆の人よりも多い。
4. 二つのテストの合計点が11点の人は、8人である。
5. 二つのテストの得点差が最も大きい人の得点差は、5点である。

【No. 45】 図は、各年度の国民医療費と、国民医療費の国民所得に対する比率を示したものである。
これから確実にいえるのはどれか。



1. 昭和 62 年度から平成 3 年度にかけて、国民所得は年々増加している。
2. 平成 7 年度の国民所得はおよそ 194 兆円である。
3. 平成 12 年度の国民医療費は前年度に比べて減少しているが、平成 14 年度は前年度に比べて増加している。
4. 平成 18 年度の国民医療費は、昭和 60 年度のおよそ 2.5 倍である。
5. 昭和 60 年度から平成 18 年度の間で、国民 1 人当たりの医療費が最も高かったのは平成 17 年度である。